

SCHOOL BASED ASSESSMENT 2023

MODEL PAPER

GRADE 7

COMPUTER EDUCATION PART – B (Subjective Type)

[Paper A: 48 Marks, Paper B: 52 Marks, Total: 100 Marks]



School : _____
Tehsil : _____ District: _____

Student Name : _____ Section : _____

Roll Number : _____ Date : _____

General Instructions for students :

طلبا کے لیے عمومی ہدایات:

1. Use separate answer sheet for writing answers and give your personal information on it as well.

۱۔ جوابات لکھنے کے لیے علیحدہ سے جوابی کاپی کا استعمال کریں اور اس کے اوپر بھی اپنے بارے میں معلومات دیں۔

2. Read carefully and attempt all questions.

۲۔ غور سے پڑھیں اور تمام سوالات حل کریں۔

3. A question can consist of one or more parts.

۳۔ ایک سوال ایک یا ایک سے زیادہ حصوں پر مشتمل ہو سکتا ہے۔

4. Use black/blue ink for writing answers. Use of lead pencil is not allowed.

۴۔ جواب لکھنے کے لیے کالی / نیلی روشنائی کا استعمال کریں۔ کچی پنسل کے استعمال کی اجازت نہیں ہے۔

Total Marks: 52

Part-B (Constructed Response Questions)

Total Time: 1 Hour 45 Minutes

Question No: 1

سوال نمبر 1

a) Define System Unit and write down the name of its different shapes. (3 Marks)

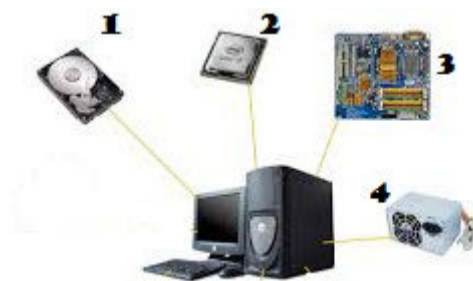
(a) سسٹم یونٹ کی تعریف کریں اور اسکی مختلف اشکال کے نام لکھیں۔ (3 نمبر)

b) What are Peripheral devices? Write the name of any two Peripheral devices. (3 Marks)

(b) پیری فیئرل ڈیوائسز کیا ہوتی ہیں؟ کوئی سی دو پیری فیئرل ڈیوائسز کے نام لکھیں۔ (3 نمبر)

c) Write the correct name of the devices as shown in the figure below. (4 Marks)

(c) نیچے تصویر میں دکھائی گئی ڈیوائسز کے درست نام لکھیں۔ (4 نمبر)



Question No: 2

سوال نمبر 2

a) Define Application Software and write the names of any two application software. (3 Marks)

(a) اپلیکیشن سافٹ ویئر کی تعریف کریں اور کوئی سے دو اپلیکیشن سافٹ ویئر کے نام لکھیں۔ (3 نمبر)

b) Write the steps to open Disk Cleanup utility program in MS-Windows. (3 Marks)

(b) MS-Windows میں Disk Cleanup یوٹیلیٹی پروگرام کو کھولنے کے مراحل لکھیں۔ (3 نمبر)

c) Write one difference between Utility programs and Device drivers with one example of each. (4 Marks)

(c) یوٹیلیٹی پروگرامز اور ڈیوائس ڈرائیورز میں ایک فرق بیان کریں اور ہر ایک کی ایک مثال دیں۔ (4 نمبر)

Question No: 3

سوال نمبر 3

a) Define First Line Indent, Hanging Indent, and Indent Both Sides. (3 Marks)

(a) Indent Both Sides اور Hanging Indent, First Line Indent کی تعریف کریں۔ (3 نمبر)

b) What is Tab Stop? List any two names of Tab Stop alignment styles in MS-Word. (3 Marks)

(b) ٹیب سٹاپ کیا ہے؟ MS-Word میں استعمال ہونے والے کوئی سے دو ٹیب سٹاپ الائنمنٹ سٹائلز کے نام لکھیں۔ (3 نمبر)

c) Write the steps to apply a border to a paragraph in MS-Word. (6 Marks)

(c) MS-Word میں ایک پیراگراف پر بارڈر لگانے کے مراحل لکھیں۔ (6 نمبر)

Question No: 4

سوال نمبر 4

a) Define the Background of the MS-Powerpoint slide. (2 Marks)

(a) MS-Powerpoint سلائیڈ کے بیک گراؤنڈ کی تعریف کریں۔ (2 نمبر)

b) Briefly explain any two background effects of the slide in MS-Powerpoint. (4 Marks)

(b) MS-Powerpoint میں سلائیڈ کے کوئی سے دو بیک گراؤنڈ ایفیکٹس کی مختصر وضاحت کریں۔ (4 نمبر)

c) Write the method to change the Themes in MS Powerpoint. (4 Marks)

(c) MS-Powerpoint میں Themes کو تبدیل کرنے کا طریقہ لکھیں۔ (4 نمبر)

Question No: 5

سوال نمبر 5

a) Who are e-mail Service Providers? Give the name of two famous e-mail service providers. (3 Marks)

(a) ای میل سروس پرووائڈرز کون ہوتے ہیں؟ کوئی سے دو مشہور ای-میل سروس پرووائڈرز کے نام لکھیں۔ (3 نمبر)

b) Write the purpose of the following parts of the E-Mail message: (3 Marks)

(To, Cc, Bcc)

(b) ای میل پیغام کے درج ذیل حصوں کا مقصد لکھیں: (3 نمبر)

(To, Cc, Bcc)

c) Write the steps to check the new message in an e-mail account. (4 Marks)

(c) ای میل اکاؤنٹ میں نیا پیغام چیک کرنے کے لیے اقدامات لکھیں۔ (4 نمبر)

SCHOOL BASED ASSESSMENT 2023

MODEL PAPER

GRADE 7

COMPUTER EDUCATION PART – A (Objective Type)

[Paper A: 48 Marks, Paper B: 52 Marks, Total: 100 Marks]



School : _____

Tehsil : _____

District: _____

Student Name : _____

Section : _____

Roll Number : _____

Date : _____

General Instructions for students :

طلبہ کے لیے عمومی ہدایات:

1) Use mask & keep at least 3 ft. distance from each other.

۱۔ ماسک پہنیں اور آپس میں کم از کم 3 فٹ کا فاصلہ رکھیں۔

2) Read carefully and attempt all questions.

۲۔ غور سے پڑھیں اور تمام سوالات حل کریں۔

3) Encircle the correct option of each of the Multiple Choice Questions (MCQs) as shown in the example given below.

۳۔ ہر کثیر الانتخابی سوال کے صحیح جواب پر دائرہ لگائیں جیسا کہ نیچے دی گئی مثال میں دکھایا گیا ہے۔

Example : Which error occurs when the instructions written in a program do not follow the rules of the programming language?

مثال : کون سی غلطی اس وقت ہوتی ہے جب پروگرام میں لکھی گئی ہدایات پروگرامنگ زبان کے اصولوں پر عمل نہیں کرتی ہیں۔

(a) Syntax Error

سینٹیکس ایرر

(b) Logical Error

لاجیکل ایرر

(c) Run-Time Error

رن ٹائم ایرر

(d) Execution Error

ایگزیکوشن ایرر

4) If more than one options are encircled in a question, no mark will be given.

۴۔ اگر کسی سوال میں ایک سے زیادہ جوابات کے گرد دائرہ لگایا گیا تو کوئی نمبر نہیں دیا جائے گا۔

Total Marks: 48

Part-A (Multiple Choice Questions)

Total Time: 1 Hour

Instructions: Thirty two (32) Multiple Choice Questions (MCQs) are given in this paper. Each question carries 1.5 marks.

ہدایات : اس پیپر میں بتیس (32) کثیر الانتخابی سوالات دیے گئے ہیں۔ ہر سوال کے 1.5 نمبر ہیں۔

Question No.1 : Name the given component, that is connected to the system board.

سوال نمبر 1: دیئے گئے component کا نام بتائیں، جو سسٹم بورڈ سے منسلک ہوتا ہے۔

(a) ROM

روم

(b) RAM


ریم

(c) Processor

پروسیسر

(d) USB

یو۔ ایس۔ بی



Question No.2 : Barcode has a "series of numbers" that is called:

سوال نمبر 2: بارکوڈ "نمبروں کی سیریز" ہے، جسے کہتے ہیں:

(a) Universal Promo Code

یونیورسل پرمو کوڈ

(b) Universal Product Code

یونیورسل پروڈکٹ کوڈ

(c) Universal Part Code

یونیورسل پارٹ کوڈ

(d) Universal Process Code

یونیورسل پروسیس کوڈ

Question No.3 : A device driver is an example of:

سوال نمبر 3: ڈیوائس ڈرائیور کی مثال ہے:

(a) Application Software

اپلیکیشن سافٹ ویئر

(b) Educational Software

ایجوکیشنل سافٹ ویئر

(c) Entertainment Software

انٹرنیٹ سافٹ ویئر

(d) System Software

سسٹم سافٹ ویئر

Question No.4 : The Software which controls and manages the overall functionality of a computer is called:

سوال نمبر 4: وہ سافٹ ویئر جو کمپیوٹر کی تمام فنکشنلیٹی کو کنٹرول اور منظم کرتا ہے اس کو کہتے ہیں:

(a) Application Software

اپلیکیشن سافٹ ویئر

(b) System Software

سسٹم سافٹ ویئر

(c) Utility Programs

یوٹیلیٹی پروگرامز

(d) Device Drivers

ڈیوائس ڈرائیورز

Question No.5 : A software that is used to view and manage visual data is known as:

سوال نمبر 5: سافٹ ویئر جو visual data کو دیکھنے اور منظم کرنے کے لیے استعمال کیا جاتا ہے، کہلاتا ہے:

(a) System viewer

سسٹم ویور

(b) File viewer

فائل ویور

(c) Disk viewer

ڈسک ویور

(d) Image viewer

ایمچ ویور

Question No.6 : MS Powerpoint is a type of:

سوال نمبر 6: MS Powerpoint _____ کی قسم ہے۔

(a) System Software

سسٹم سافٹ ویئر

(b) Application Software

اپلیکیشن سافٹ ویئر

(c) Utility Software

یوٹیلیٹی سافٹ ویئر

(d) Device Driver Software

ڈیوائس ڈرائیور سافٹ ویئر

Question No.7 : Choose the key used to set the position of the text quickly at specific location.

سوال نمبر 7: مخصوص مقام پر ٹیکسٹ کی پوزیشن فوری طور پر سیٹ کرنے کے لیے استعمال ہونے والی key کا انتخاب کریں۔

(a) Spacebar

(b) Ctrl

(c) Tab

(d) Enter

Question No.8 : Identify the view of the MS Word document as shown in the below image.

سوال نمبر 8: MS Word ڈاکومنٹ کے ویو کی شناخت کریں جیسا کہ نیچے دی گئی تصویر میں دکھایا گیا ہے۔

(a) Web Layout View

ویب لے آؤٹ ویو

(b) Print Preview

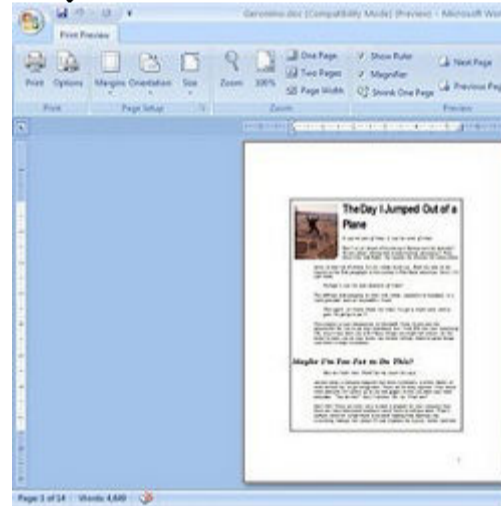
پرنٹ پری ویو

(c) Draft View

ڈرافٹ ویو

(d) Outline View

آؤٹ لائن ویو



Question No.9 : Deleting, inserting and re-writing text in a document is known as:

سوال نمبر 9: کسی ڈاکومنٹ میں سے ٹیکسٹ کو ختم کرنا، داخل کرنا اور اس میں تبدیلی کرنا کہلاتا ہے:

(a) Alignment

الائنمنٹ

(b) Formatting

فارمیٹنگ

(c) Editing

ایڈیٹنگ

(d) Designing

ڈیزائننگ

Question No.10 : The shortcut key used to make a text *ITALIC* is:

سوال نمبر 10: ٹیکسٹ کو *ITALIC* کرنے کے لیے شارٹ کٹ key ہے:

(a) Shift + I

(b) Ctrl + I

(c) Tab + I

(d) Alt + I

Question No.11 : In an MS Word document, how many times Enter key is pressed to discontinue a list?

سوال نمبر 11: MS Word ڈاکومنٹ میں، ایک لسٹ کو ختم کرنے کے لیے Enter key کتنی مرتبہ دبائی جاتی ہے؟

(a) One

ایک

(b) Two

دو

(c) Three

تین

(d) Four

چار

Question No.12 : The alignment used mostly to make the cover page of document, is:

سوال نمبر 12: ڈاکومنٹ کا cover page بنانے کیلئے زیادہ تر استعمال ہونے والی الائنمنٹ ہے:

(a) Center

(b) Left

(c) Right

(d) Justified

Question No.13 : Choose the shortcut key used to print the document in MS Word.

سوال نمبر 13: MS Word میں ڈاکومنٹ کو پرنٹ کرنے کے لیے شارٹ کٹ key کا انتخاب کریں۔

(a) Ctrl + C

(b) Ctrl + F

(c) Ctrl + P

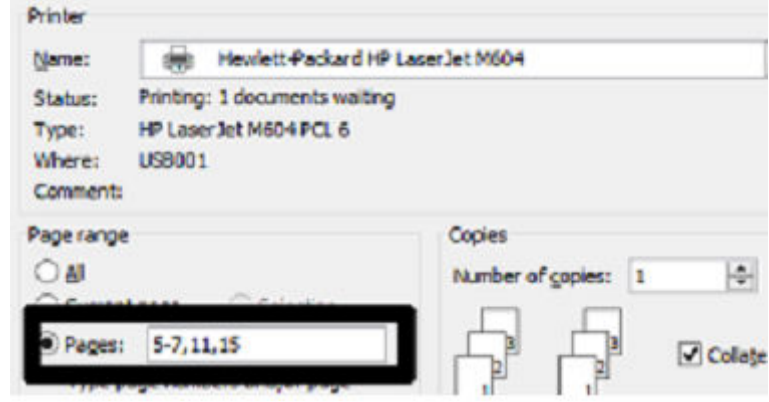
(d) Ctrl + V

Question No.14 :

Choose the total number of pages that will be printed as shown in the print dialog box.

سوال نمبر 14: پرنٹ ڈائیلاگ باکس میں دکھائے گئے صفحات کی کل تعداد منتخب کریں جو پرنٹ ہوں گے۔

- (a) 4
(b) 5
(c) 6
(d) 7



Question No.15 :

Identify the Tab that helps a user to Zoom in/Zoom out the document.

سوال نمبر 15: اس ٹیب کی شناخت کریں جس کی مدد سے یوزر ایک ڈاکومنٹ کو زوم ان یا زوم آؤٹ کر سکتا ہے۔

- (a) Home (b) Review (c) View (d) Page Layout

Question No.16 :

In MS Word 2007, the shortcut key of "Find" command is:

سوال نمبر 16: MS Word 2007 میں "Find" کمانڈ کی شارٹ کٹ key ہے:

- (a) CTRL+B (b) CTRL+C (c) CTRL+F (d) CTRL+Z

Question No.17 :

The key used to delete the character from the left of the cursor is:

سوال نمبر 17: کرسر کے بائیں طرف سے کریکٹر کو ختم کرنے کے لیے استعمال ہونے والی key ہے:

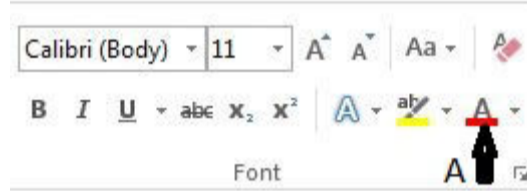
- (a) End (b) Backspace (c) Esc (d) Delete

Question No.18 :

Identify the labelled area "A" from the following image.

سوال نمبر 18: درج ذیل تصویر کے لیبل کئے گئے ایریا "A" کی شناخت کریں۔

- (a) Text highlight color ٹیکسٹ ہائی لائٹ کالر
(b) Font shading color فونٹ شیڈنگ کالر
(c) Font Color فونٹ کالر
(d) Font background color فونٹ بیک گراؤنڈ کالر



Question No.19 :

By default, the gap of Tab Stop from left margin is:

سوال نمبر 19: بائیں مارجن سے ٹیب سٹاپ کا پہلے سے طے شدہ فرق ہوتا ہے:

- (a) 1/4 inch (b) 1/3 inch (c) 1/2 inch (d) 1 inch

Question No.20 :

A user can easily divide a document into more than one part by using:

سوال نمبر 20: ایک یوزر آسانی سے ڈاکومنٹ کو ایک سے زیادہ حصوں میں _____ کو استعمال کرتے ہوئے تقسیم کر سکتا ہے۔

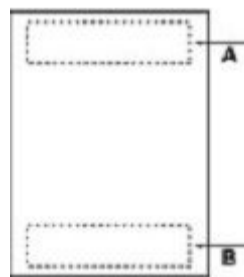
- (a) soft page break سافٹ پیج بریک (b) hard page break ہارڈ پیج بریک
(c) section break سیکشن بریک (d) manual page break میمنول پیج بریک

Question No.21 :

Select the correct name of label B in the image shown below.

سوال نمبر 21: نیچے دکھائی گئی تصویر میں لیبل B کا درست نام منتخب کریں۔

- (a) Header ہیڈر
(b) Section break سیکشن بریک
(c) Page break پیج بریک
(d) Footer فوٹر



Question No.22 :

In MS Word 2007, center alignment of text vertically is mostly used to create:

سوال نمبر 22: MS Word 2007 میں، عمودی طور پر سینٹر ٹیکسٹ الائنمنٹ _____ بنانے کے لیے استعمال کیا جاتا ہے۔

- (a) Table of Content Page ٹیبل آف کونٹینٹ پیج (b) Cover Page کور پیج
(c) Reference Page ریفرنس پیج (d) Introduction Page انٹروڈکشن پیج

Question No.23 :

The number of media elements used to create attractive multimedia presentations are:

سوال نمبر 23: پرکشش ملٹی میڈیا پریزنٹیشن بنانے کے لیے استعمال ہونے والے میڈیا عناصر کی تعداد ہے:

- (a) 2 (b) 4 (c) 5 (d) 7

Question No.24 : "Quaid-e-Azam was born in 25-Dec-1876" is kind of data:

سوال نمبر 24: "Quaid-e-Azam was born in 25-Dec-1876" یہ کس قسم کا ڈیٹا ہے؟

- (a) Text ٹیکسٹ (b) Image امیج (c) Graphic گرافک (d) Numeric نویمیرک

Question No.25 : Identify the tab in which a user can find slide transition.

سوال نمبر 25: اس ٹیب کی شناخت کریں جس میں صارف سلائیڈ ٹرانزیشن تلاش کر سکتا ہے۔

- (a) Home (b) Review (c) Animations (d) Design

Question No.26 : In MS Powerpoint, users can search for beautiful templates of their own choice by using.

سوال نمبر 26: MS Powerpoint میں، یوزرز _____ استعمال کر کے اپنی پسند کے خوبصورت ٹیمپلیٹس تلاش کر سکتے ہیں۔

- (a) Variants ویریئنٹس (b) Theme تھیم (c) Office Website آفس ویب سائٹ (d) Slide layout سلائیڈ لے آؤٹ

Question No.27 : How many parts are there in an e-mail address?

سوال نمبر 27: ایک ای-میل ایڈریس کے کتنے حصے ہوتے ہیں؟

- (a) 1 (b) 2 (c) 3 (d) 4

Question No.28 : The first web page of Hotmail is called:

سوال نمبر 28: Hotmail کا پہلا ویب پیج کہلاتا ہے:

- (a) Home page ہوم پیج (b) Account page اکاؤنٹ پیج (c) Admin page ایڈمن پیج (d) User page یوزر پیج

Question No.29 : Email is delivered by:

سوال نمبر 29: ای-میل کس کے ذریعہ بھیجی جاتی ہے؟

- (a) MMS (b) SMS (c) Fax (d) Computer

Question No.30 : In Hotmail, name the folder from where we can restore the removed e-mails.

سوال نمبر 30: Hotmail میں اس فولڈر کا نام بتائیں جہاں سے ہم ختم کی گئی ای میلز کو ری سٹور کر سکتے ہیں۔

- (a) Inbox (b) Deleted (c) Drafts (d) Sent

Question No.31 : Identify the "A part" of e-mail address as shown below.

سوال نمبر 31: ای-میل ایڈریس کے "A حصے" کی شناخت کریں جیسا کہ ذیل میں دکھایا گیا ہے۔

- (a) service provider سروس پرووائڈر
(b) address ایڈریس
(c) domain ڈومین
(d) username یوزر نیم

Naseer786@gmail.com

A

Question No.32 : User can include files and photos in an e-mail by clicking on:

سوال نمبر 32: یوزر فائلوں اور تصاویر کو ای-میل میں _____ پر کلک کر کے شامل کر سکتا ہے:

- (a) Sent (b) Inbox (c) Attach (d) Draft

SCHOOL BASED ASSESSMENT 2023
MODEL PAPER
GRADE 7



ENGLISH PART – B (Subjective Type)

[Paper A: 48 Marks, Paper B: 52 Marks, Total: 100 Marks]

School : _____
Tehsil : _____ District: _____

Student Name : _____ Section : _____


Roll Number : _____ Date : _____

General Instructions for students :

1. Read carefully and attempt all questions.
2. A question can consist of one or more parts.
3. Use black/blue ink for writing answers in separate answer sheet. Use of lead pencil is not allowed.

Total Marks: 52	Part-B (Constructed Response Questions)	Total Time: 1 Hour 45 Minutes
------------------------	--	--------------------------------------

Question No.1 : Write a paragraph of ten sentences on "Traffic Signals". Use correct grammar, punctuation and spelling. Marks (10)




Question No.2 : Write a letter to your brother and advise him to improve his English writing. Use correct grammar, punctuation and spelling. Marks (10)



Question No.3 : Develop a mind map on "Importance of Trees". Also write five sentences about it. Use correct grammar, punctuation and spelling. Marks (10)



Question No.4 : Write a paragraph of ten sentences on reasons why fast food has become popular and also has some serious effect on health and society. Write at least five causes and five effects of the popularity of fast foods. Use correct grammar, punctuation and spelling. Marks (10)



Question No.5 : Read the following paragraph carefully and answer the questions. Marks (12)

Electricity is an important blessing of science. It is a part of modern life. One cannot think of a world without it. Electricity has many uses in our daily life. It is used for lighting rooms. It is used for working fans. These things provide comfort to people. In factories, electricity is used. Electricity is used in schools and hospitals. It has changed transport and communication. Electricity also provides means of pleasure. The use of electricity is increasing day by day. Electricity can be produced by coal, gas and water. There is a shortage of electricity in our country. As responsible citizens, it is our duty to save electricity. Extra fans and lights should be switched off. We should turn off lights and fans before going outside. We should use energy savers instead of bulbs. The energy savers consume 80% less energy as compared to bulbs. So using energy savers is to our benefit.



- (a) Describe any two benefits of electricity mentioned in the paragraph. Marks (02)
- (b) Describe two ways of producing electricity. Marks (02)
- (c) How can we save electricity? Marks (02)
- (d) Bulbs or energy savers, which are better and why? Marks (02)
- (e) What is the central idea of the paragraph? Marks (02)
- (f) Suggest a suitable title for the paragraph. Marks (02)

SCHOOL BASED ASSESSMENT 2023

MODEL PAPER

GRADE 7

ENGLISH PART – A (Objective Type)

[Paper A: 48 Marks, Paper B: 52 Marks, Total: 100 Marks]



School : _____
Tehsil : _____ District: _____

Student Name : _____ Section : _____

Roll Number : _____ Date : _____

General Instructions for students :

- 1) Use mask & keep at least 3 ft. distance from each other.
- 2) Read carefully and attempt all questions.
- 3) Encircle the correct option of each of the Multiple Choice Questions (MCQs) as shown in the example given below.

Example : He is _____ to school.

- a) goes
b) went
c) going
d) go

- 4) If more than one options are encircled in a question, no mark will be given.

Total Marks: 48

Part-A (Multiple Choice Questions)

Total Time: 1 Hour

Instructions: Thirty two (32) Multiple Choice Questions (MCQs) are given in this paper. Each question carries 1.5 marks.

Question No.1 : Look at the thesaurus. Which word has similar meaning to the word "Cut"?

- (a) Repair
(b) Combine
(c) Crack
(d) Join

Cut v. carve, chop, clip, crack, slice, split, trim

ANTONYMS: repair, combine, join

Question No.2 : What will the mother say to stop her children from going outside in stormy weather?

- (a) Let me do my work, don't disturb me.
(b) Mind your own business and don't waste your time.
(c) You should pay attention to your studies.
(d) Please, wait for the weather to be fine.

Question No.3 : Which of the following words contains a consonant cluster at the final position?

- (a) Book
(b) Chair
(c) Desk
(d) Telephone

Question No.4 : "You should _____ the hockey and start doing your homework now. "

- (a) put up
(b) aim at
(c) turn on
(d) knock off

Question No.5 : Choose the plural of "Haircut".

- (a) Haircut
(b) Hairscut
(c) Haircuts
(d) Hairscuts

Question No.6 : "The basic mode of mass communication is _____ which transmits news."

- (a) media
(b) medias
(c) mediums
(d) medium's

Question No.7 : What is the correct response to the given expression?

"Could I ask you the time, please?"

- (a) I am doing well.
- (b) I am not available.
- (c) It is never too late.
- (d) It's quarter past eleven.

Question No.8 : "Soon it began to get dark. Luckily we had _____ tent with us."

- (a) much
- (b) an
- (c) a
- (d) any

Question No.9 : Identify the sentence in which the linking verb is used.

- (a) She felt the thick tree leaves.
- (b) The gardener felt tired.
- (c) The girl felt the vibration.
- (d) He felt the grass under his feet.

Question No.10 : Choose the correct Passive Voice of the given sentence.

"Why does he always blame others?"

- (a) Why others always blamed by him?
- (b) Why do others always blamed by him?
- (c) Why are others always blamed by him?
- (d) Why is others always blamed by him?

Question No.11 : Choose the sentence which has an indirect object.

- (a) Would you like to give them a mask?
- (b) Amina painted a bird for art project.
- (c) The boys built a castle with Lego.
- (d) I have a bag, two pens, and seven books.

Question No.12 : Choose appropriate punctuation to fill in the blank.

"Akram is afraid of two things _____ spiders and storms."

- (a) Question mark (?)
- (b) Dash (—)
- (c) Full stop (.)
- (d) Exclamation Mark (!)

Question No.13 : "If the driver had applied the brakes, he _____ have avoided the accident."

- (a) will
- (b) shall
- (c) should
- (d) would

Question No.14 : Choose the correct option to make the sentence of " Present Perfect Tense."

"My parents _____ me."

- (a) is never hurt
- (b) are never hurt
- (c) has been never hurt
- (d) have never hurt

Question No.15 : "A blade is _____ a knife."

- (a) sharper than
- (b) the sharpest
- (c) sharper to
- (d) sharpest than

Question No.16 : Choose the word which has three syllables.

- (a) Population
- (b) Fantastic
- (c) Dictionary
- (d) Calculator

Question No.17 : Your friend visited a nearby sea. He cleans seashore by putting the trash in the bin. What would you say to appreciate him?

- (a) Go to sleep.
- (b) Great! You did well.
- (c) What a great question!
- (d) You should come in here.



Question No.18 : Identify the list of long vowel sounds.

- (a) Deep, Heed, Eat, Feet
- (b) Cat, Mat, Hat, Sack
- (c) Hop, Sock, Mop, Mock
- (d) Mud, Fuss, Blunder, Under

Question No.19 : Choose the correct tongue twister to complete the sentence.

"How much _____ could a woodchuck chuck if a woodchuck could chuck wood? "

- (a) hood
- (b) would
- (c) wood
- (d) could

Question No.20 : Fill in the blank by using suitable reflexive pronoun from the given options.

"I have enjoyed_____."

- (a) itself
- (b) himself
- (c) herself
- (d) myself

Question No.21 : Identify the adverb from the given options.

"My grandmother walks extremely slow."

- (a) Grandmother
- (b) Walks
- (c) My
- (d) Extremely

Question No.22 : "He attended the party_____ his busy schedule."

- (a) inspite of
- (b) due to
- (c) as a result of
- (d) effect of



Question No.23 : Choose the correct punctuation to rectify the sentence.

"Pakistan is flourishing in every sector day by day, said the Prime Minister."

- (a) Exclamation mark (!)
- (b) Semicolon (;)
- (c) Quotation mark (" ")
- (d) Question mark (?)

Question No.24 : What is meaning of "Authority"?

- (a) Understand
- (b) Power
- (c) Forget
- (d) Increase

Question No.25 : Use the correct simile in the blank.

"He is as _____ as a lion."

- (a) clever
- (b) brave
- (c) coward
- (d) intelligent

Question No.26 : "If you _____ yourself, there is nothing in which you can not succeed."

- (a) believe off
- (b) trust off
- (c) black out
- (d) believe in

Question No.27 : "She is _____ girl who worked a lot for human welfare."

- (a) a
- (b) an
- (c) any
- (d) the

Paragraph Instruction

Read the following poem carefully and answer the questions given below.

*How beautiful is the rain!
After the dust and heat,
In the broad fiery street,
How clatters along the roofs,
Like the tramp of hoofs!
How it gushes and struggles out,
From the throat of the overflowing spout!
Across the window pane
It pours and pours;
And swift and wide
With a muddy tide.
Like a river down the gutter roars
The rain, we welcome the rain.*



Question No. 28 : What does "Fiery Street" mean?

- (a) There was fire in the street.
- (b) There was intense heat in the street.
- (c) There was a crowd in the street.
- (d) There was a fight in the street.

Question No.29 : What is there in the street?

- (a) Noise and crowd
- (b) Mud and dirt
- (c) Dust and fire
- (d) Dust and heat

Question No.30 : What roars in the poem?

- (a) Lions
- (b) Rivers
- (c) Rain
- (d) Gutters

Question No.31 : Suggest a suitable title for the poem.

- (a) Broad firey street
- (b) Dust and heat
- (c) The window panes
- (d) The beautiful rain

Question No.32 : Identify rhyming words of "Spout" .

- (a) Out, Shout, Doubt
- (b) Flute, Cute, Mouth
- (c) Mute, Rout, Bought
- (d) Doubt, Trout, But

SCHOOL BASED ASSESSMENT 2023
MODEL PAPER
GRADE 7



ISLAMIAT PART – B (Subjective Type)

[Part A: 30 Marks Part B: 30 Marks Part C: 40 Marks Total: 100 Marks]

School : _____
Tehsil : _____ District: _____

Student Name : _____ Section : _____

Roll Number : _____ Date : _____

General Instructions for students :

1. Use separate answer sheet for writing answers and give your personal information on it as well-

جوابت لکھنے کے لیے علیحدہ سے جوابی کاپی کا استعمال کریں اور اس کے اوپر بھی اپنے بارے میں معلومات دیں۔

2. Read carefully and attempt all questions-

غور سے پڑھیں اور تمام سوالات حل کریں۔

3. A question can consist of one or more parts-

ایک سوال ایک یا ایک سے زیادہ حصوں پر مشتمل ہو سکتا ہے۔

4. Use black/blue ink for writing answers. Use of lead pencil is not allowed

جواب لکھنے کے لیے کالی / نیلی روشنائی کا استعمال کریں۔ کچی پنسل کے استعمال کی اجازت نہیں ہے۔

Total Marks: 30

Part-B (Constructed Response Questions)

Total Time: 45 Minutes

Question No: 1

سوال نمبر 1

a) Write the Nasab of Zakat. (3)

(a) (زکوٰۃ کا نصاب تحریر کریں۔) (3)

b) Write three economic effects of Zakat . (3)

(b)۔ زکوٰۃ کے تین معاشی اثرات تحریر کریں (3)

c) Write any four social benefits of Zakat. (4)

(c) زکوٰۃ کے کوئی سے چار معاشرتی فائدے تحریر کریں۔ (4)

Question No: 2

سوال نمبر 2

a) Describe the background of Ghazwa Hunain. (3)

(a) غزوہ حنین کا پس منظر بیان کریں۔ (3)

b) Write three sayings of Hazrat Khawaja Farid-ud-Din Ganj Shukr (رحمۃ اللہ علیہ)۔ (3)

(b) حضرت خواجہ فرید الدین گنج شکر رحمۃ اللہ علیہ کے کوئی سے تین اقوال تحریر کریں۔ (3)

c) What do we learn from the efforts for education of Hazrat Khawaja Farid-ud-Din Ganj Shukr (4) (رحمۃ اللہ علیہ)؟

(c) حضرت خواجہ فرید الدین گنج شکر رحمۃ اللہ علیہ کی حصول علم کی کوششوں سے ہمیں کیا درس ملتا ہے؟ (4)

Question No: 3

سوال نمبر 3

a) Describe the concept of equality according to Islamic teachings. (2 marks)

(a) اسلامی تعلیمات کے مطابق مساوات کے مفہوم کو بیان کریں۔ (2 نمبر)

b) Explain human equality in the light of the Last Sermon: (4 marks)

(b) انسانی مساوات کی اہمیت خطبہ حجۃ الوداع کی روشنی میں واضح کریں: (4 نمبر)

c) What kind of society did the Sahaba Kiram رضی اللہ عنہم developed by following the golden principles of equality? Explain. (4 marks)

(c) مساوات کے سنہری اصولوں پر چلتے ہوئے صحابہ کرام رضی اللہ عنہم اجمعین نے کیا معاشرہ تشکیل دیا؟ وضاحت کریں۔ (4)

SCHOOL BASED ASSESSMENT 2023

MODEL PAPER

GRADE 7

ISLAMIAT PART – A (Objective Type)

[Part A: 30 Marks Part B: 30 Marks Part C: 40 Marks Total: 100 Marks]



School : _____

Tehsil : _____

District: _____

Student Name : _____

Section : _____

Roll Number : _____

Date : _____

General Instructions for students :

طلبہ کے لیے عمومی ہدایات:

1) Use mask & keep at least 3 ft. distance from each other.

۱۔ ماسک پہنیں اور آپس میں کم از کم 3 فٹ کا فاصلہ رکھیں۔

2) Read carefully and attempt all questions.

۲۔ غور سے پڑھیں اور تمام سوالات حل کریں۔

3) Encircle the correct option of each of the Multiple Choice Questions (MCQs) as shown in the example given below.

۳۔ ہر کثیر الانتخابی سوال کے صحیح جواب پر دائرہ لگائیں جیسا کہ نیچے دی گئی مثال میں دکھایا گیا ہے۔

مثال : مسلمانوں پر روزانہ کتنی نمازیں فرض ہیں؟

Example : How many Salah are obligatory for Muslims in a day?

Four

(b) چار

Three

(a) تین

Six

(d) چھ

Five

(c) پانچ

4) If more than one options are encircled in a question, no mark will be given.

۴۔ اگر کسی سوال میں ایک سے زیادہ جوابات کے گرد دائرہ لگایا گیا تو کوئی نمبر نہیں دیا جائے گا۔

Total Marks: 30

Part-A (Multiple Choice Questions)

Total Time: 45 Minutes

Instructions: Twenty (20) Multiple Choice Questions (MCQs) are given in this part. Each question carries 1.5 marks.

ہدایات: اس حصہ میں 20 کثیر الانتخابی سوالات دیے گئے ہیں۔ ہر سوال کے 1.5 نمبر ہیں۔

Question No.1 : In which surah the word خاتم النبیین is mentioned for Rasoolullah وسلم واصحابہ وعلی آلہ واصحابہ وسلم

سوال نمبر 1: آپ صلی اللہ علیہ وعلی آلہ واصحابہ وسلم کے لیے خاتم النبیین کے الفاظ کس سورۃ میں آئے ہیں؟

(a) Al-Baqara

البقرہ

(b) Al-Rehman

الرحمن

(c) Al-Maeeda

المائدہ

(d) Al-Ahzaab

الاحزاب

Question No.2 : To whom worship belongs?

سوال نمبر 2: عبادت کا تعلق کس سے ہے؟

(a) World

دنیا سے

(b) Creatures

مخلوق سے

(c) Creator

خالق سے

(d) Day of judgement

آخرت سے

Question No.3 : Not praying to Allaah causes:

سوال نمبر 3: اللہ تعالیٰ سے دعا نہ کرنا سبب بنتا ہے

(a) Wealth reduction

مال میں کمی کا

(b) Allah almighty's displeasure

اللہ تعالیٰ کی ناراضی کا

(c) humility

عاجزی کا

(d) selflessness

خود داری کا

Question No.4 : For paying Zakat, a certain amount of gold, silver and merchandise is called:

سوال نمبر 4: زکوٰۃ ادا کرنے کے لیے سونا، چاندی اور سامان تجارت کی ایک خاص مقدار کو کہا جاتا ہے:

(a) nisaab

نصاب

(b) zakat

زکوٰۃ

(c) charity

صدقات

(d) scholarship

وظیفہ

Question No.5 : On the occasion of the conquest of Makkah, went to Madinah for the renewal of peace agreement:

سوال نمبر 5: فتح مکہ کے موقع پر تجدید صلح کے لیے مدینہ گئے:

- (a) Abu Sufyaan ابو سفیان (b) Hakeem bn Hizam حکیم بن حزام (c) Badeel Bin Warqa بدیل بن ورقا (d) Amar Bin Rafe عمرو بن رافع

Question No.6 : The persistence of Rasoolullah وسلم واصحابہ وعلی آلہ واصحابہ وسلم in spite of the stampede in Ghazwa Hunain, teaches us a lesson of:

سوال نمبر 6: غزوہ حنین میں بھگدڑ کے باوجود نبی کریم صلی اللہ علیہ وعلی آلہ واصحابہ وسلم کا ڈٹے رہنا، اس عمل سے ہمیں سبق ملتا ہے:

- (a) moderation میانہ روی کا (b) perseverance استقامت کا
(c) simplicity سادگی کا (d) tolerance رواداری کا

Question No.7 : The distance from Madina to Tabuk is:

سوال نمبر 7: مدینہ سے تبوک کا فاصلہ ہے:

- (a) six hundred and five kilometers چھ سو پانچ کلومیٹر (b) seven hundred and five kilometers سات سو پانچ کلومیٹر
(c) eight hundred and five kilometers آٹھ سو پانچ کلومیٹر (d) nine hundred and five kilometers نو سو پانچ کلومیٹر

Question No.8 : What was the focus of Rasoolullah وسلم واصحابہ وعلی آلہ واصحابہ وسلم in Kutba-Hajj-tul-Vidah?

سوال نمبر 8: خطبہ حجۃ الوداع میں نبی کریم صلی اللہ علیہ وعلی آلہ واصحابہ وسلم کی گفتگو کا مرکز کیا تھا؟

- (a) Human respect and dignity انسانی عزت ووقار (b) Hajj training حج کی تربیت
(c) Ways of worship عبادات کے طریقے (d) Worldly affairs دنیاوی امور

Question No.9 : Rasoolullah وسلم واصحابہ وعلی آلہ واصحابہ وسلم spent the last days of his life with :

سوال نمبر 9: رسول اللہ صلی اللہ تعالیٰ علیہ وعلی آلہ واصحابہ وسلم نے اپنی زندگی کے آخری ایام گزارے:

- (a) Hazrat Khadijah رضی اللہ تعالیٰ عنہا حضرت عائشہ رضی اللہ تعالیٰ عنہا کے ساتھ
(b) Hazrat Aysha رضی اللہ تعالیٰ عنہا حضرت خدیجہ رضی اللہ تعالیٰ عنہا کے ساتھ
(c) Hazrat Hafsa رضی اللہ تعالیٰ عنہا حضرت حفصہ رضی اللہ تعالیٰ عنہا کے ساتھ
(d) Hazrat Zainab رضی اللہ تعالیٰ عنہا حضرت زینب رضی اللہ تعالیٰ عنہا کے ساتھ

Question No.10 : Spending not properly on legitimate needs such as food, clothes and treatment etc. is called:

سوال نمبر 10: اپنی جائز ضروریات مثلاً خوراک، لباس اور علاج وغیرہ پر مناسب طریقے سے خرچ نہ کرنا کہلاتا ہے:

- (a) generosity سخاوت (b) stingy بخل (c) extravagance اسراف (d) moderation میانہ روی

Question No.11 : To adopt middle way in all matter is clear example of:

سوال نمبر 11: تمام معاملات میں درمیانی راستہ اختیار کرنا واضح مثال ہے:

- (a) peity تقویٰ کی (b) equality مساوات کی (c) modration میانہ روی کی (d) brotherhood اخوت کی

Question No.12 : An excellent example of economic moderation is:

سوال نمبر 12: معاشرتی زندگی میں معاشی میانہ روی کی عمدہ مثال ہے:

- (a) hoarding money مال کا جمع کرنا (b) excessive spending مال ضرورت سے زائد خرچ کرنا
(c) low spending مال ضرورت کے مطابق خرچ کرنا (d) moderate spending مال ضرورت سے کم خرچ کرنا

Question No.13 : Who said! " if my daughter had stolen, I would have cut off her hand":

سوال نمبر 13: کس کا فرمان ہے کہ "اگر میری بیٹی بھی چوری کرتی تو میں اس کا ہاتھ بھی کاٹ دیتا":

- (a) Hazrat Nooh علیہ السلام حضرت نوح علیہ السلام کا
(b) Hazrat Ibrahim علیہ السلام حضرت ابراہیم علیہ السلام کا
(c) Hazrat Muhammad Rasoolullah خاتم النبیین صلی اللہ علیہ وعلی آلہ واصحابہ وسلم حضرت محمد رسول اللہ خاتم النبیین صلی اللہ علیہ وعلی آلہ واصحابہ وسلم کا
(d) Hazrat Yaqoob علیہ السلام حضرت یعقوب علیہ السلام کا

Question No.14 : The profession of Hazrat Adam علیہ السلام was

سوال نمبر 14: حضرت آدم علیہ السلام کا پیشہ تھا:

- (a) goat farming گله بانی (b) cattle breeding مویشی پالنا (c) fish farming مچھلی پالنا (d) farming کاشت کاری

Question No.15 : According to Islamic teachings, to reduce environmental pollution, traffic laws should be:

سوال نمبر 15: اسلامی تعلیمات کی روشنی میں ماحولیاتی آلودگی کو کم کرنے کیلئے ہمیں ٹریفک کے قوانین کی کرنی چاہیے:

- (a) supervised نگرانی (b) changed تبدیلی (c) followed پابندی (d) look after دیکھ بھال

Question No.16 : The act for living a prosper life told by Rasoolullah وسلم وعلی آلہ واصحابہ is:

سوال نمبر 16: عمر میں برکت کے لیے رسول اللہ صلی اللہ علیہ وعلی آلہ واصحابہ وسلم نے عمل بتایا:

- (a) the truth سچائی (b) kindness شفقت کرنا (c) honesty دیانت داری (d) to take pity صلہ رحمی

Question No.17 : Hazrat Ayesha Siddiqah's رضی اللہ تعالیٰ عنہا watering the wounded of Ohad by putting musk on her back shows her:

سوال نمبر 17: حضرت عائشہ صدیقہ رضی اللہ تعالیٰ عنہا کا غزوہ احد میں کمر پر مشک لاد کر زخمیوں کو پانی پلانا صفت کو ظاہر کرتا ہے:

- (a) Patience صبر و تحمل کی (b) Determination عزم و استقلال کی (c) Pardon عفو و درگزر کی (d) Courage and bravery شجاعت و بہادری کی

Question No.18 : Which saying of Hazrat Farid-ud-Din Ganj Shukar رحمۃ اللہ علیہ, gives us lesson to gain knowledge in every situation :

سوال نمبر 18: حضرت فرید الدین گنج شکر رحمۃ اللہ علیہ کے کس قول سے ہمیں یہ سبق ملتا ہے کہ ہر حال میں علم حاصل کریں:

- (a) honor is in justice عزت و شان عدل و انصاف میں ہے
(b) get skills even if you get them with disrespect ہنر اگر بے عزتی سے ملے تو بھی حاصل کرو
(c) try to live after die اس بات کی کوشش کرو کہ مر کر زندہ ہو جاو
(d) do not make the heart a game of the devil دل کو شیطان کا کھیل نہ بناؤ

Question No.19 : Salahuddin Ayoubi's رحمة اللہ تعالیٰ علیہ Jehadi life is a beacon:

سوال نمبر 19: صلاح الدین ایوبی رحمۃ اللہ تعالیٰ علیہ کی مجاہدانہ زندگی مشعل راہ ہے:

- (a) for our commanders ہمارے سپہ سالاروں کے لیے (b) for our traders ہمارے تاجروں کے لئے
(c) for our players ہمارے کھلاڑیوں کے لیے (d) for our poets ہمارے شاعروں کے لیے

Question No.20 : Allama Ibn-e-Khaldoon رحمۃ اللہ علیہ is the founder of:

سوال نمبر 20: علامہ ابن خلدون رحمۃ اللہ علیہ بانی ہیں:

- (a) economics معاشیات کے (b) sociology سیاسیات کے (c) astronomy فلکیات کے (d) sociology عمرانیات کے

SCHOOL BASED ASSESSMENT 2023

MODEL PAPER

GRADE 7

MATHEMATICS PART – B (Subjective Type)

[Paper A: 48 Marks, Paper B: 52 Marks, Total: 100 Marks]



School : _____
Tehsil : _____ District: _____

Student Name : _____ Section : _____

Roll Number : _____ Date : _____

General Instructions for students :

1. Read carefully and attempt all questions.

۱۔ غور سے پڑھیں اور تمام سوالات حل کریں۔

2. A question can consist of one or more parts.

۲۔ ایک سوال ایک یا ایک سے زیادہ حصوں پر مشتمل ہو سکتا ہے۔

3. Use black/blue ink for writing answers in separate answer sheet. Use of lead pencil is not allowed.

۳۔ جواب لکھنے کے لیے الگ سے جوابی کاپی میں کالی / نیلی روشنائی کا استعمال کریں۔ کچی پنسل کے استعمال کی اجازت نہیں ہے۔

Total Marks: 52

Part-B (Constructed Response Questions)

Total Time: 1 Hour 45 Minutes

Question No: 1

سوال نمبر 1

a) If $A = \{1, 3, 7, 8, 9\}$, $B = \{2, 3, 4, 6, 7\}$ and $C = \{2, 4, 5, 7, 9\}$. Verify that $A \cup (B \cup C) = (A \cup B) \cup C$ (5 marks)

(a) اگر $A = \{1, 3, 7, 8, 9\}$, $B = \{2, 3, 4, 6, 7\}$ اور $C = \{2, 4, 5, 7, 9\}$ ہو تو پڑتال کریں کہ $A \cup (B \cup C) = (A \cup B) \cup C$ (5 نمبر)

b) Prove that $\frac{1}{3} + \frac{3}{5} = \frac{3}{5} + \frac{1}{3}$ (5 marks)

(b) ثابت کریں $\frac{1}{3} + \frac{3}{5} = \frac{3}{5} + \frac{1}{3}$ (5 نمبر)

Question No: 2

سوال نمبر 2

a) Evaluate $\left(\frac{p}{q}\right)^{-5} \times \left(\frac{p}{q}\right)^5 + \left(\frac{t}{k}\right)^7 \times \left(\frac{t}{k}\right)^{-7}$ (5 marks)

(a) مختصر کریں $\left(\frac{p}{q}\right)^{-5} \times \left(\frac{p}{q}\right)^5 + \left(\frac{t}{k}\right)^7 \times \left(\frac{t}{k}\right)^{-7}$ (5 نمبر)

b) The area of a square-shaped garden is 50625 sq. metres. Find the length of its side. (5 marks)

(b) ایک مربعی باغ کا رقبہ 50625 مربع میٹر ہے۔ اس کے ایک ضلع کی لمبائی معلوم کریں۔ (5 نمبر)

Question No: 3

سوال نمبر 3

a) 80 men construct a building in 10 months. How many men will construct the same building in 8 months? (5 marks)

(a) 80 آدمی ایک عمارت 10 ماہ میں تعمیر کرتے ہیں۔ کتنے آدمی اسی عمارت کو 8 ماہ میں تعمیر کریں گے؟ (5 نمبر)

b) How much zakat Ali will pay on his saving of Rs 500 000? (5 marks)

(b) علی اپنی بچت 500 000 روپے پر کتنی زکوٰۃ ادا کرے گا؟ (5 نمبر)

Question No: 4

a) Factorize: $4x^2y - 4xy + 8y^2x - 8y^2$. (5 marks)

(a) تجزی کریں: $4x^2y - 4xy + 8y^2x - 8y^2$: (5 نمبر)

b) Construct an equilateral triangle LMN whose basis is 6 cm long. (7 marks)

(b) ایک متماثل الاضلاع مثلث LMN بنائیں جس کا قاعدہ 6 سینٹی میٹر لمبا ہو۔ (7 نمبر)

Question No: 5

a) Find the measurement of sides of a rectangle whose length is 6 times to its width and its area is 36504 square metres? (5 marks)

(a) ایک مستطیل کے اضلاع کی پیمائش معلوم کریں۔ جس کی لمبائی اس کی چوڑائی سے 6 گنا ہے۔ اور اس کا رقبہ 36504 مربع میٹر ہے؟ (5 نمبر)

b) 720 people visited zoo out of which 300 were men, 220 children and 200 women. Represent the data on pie graph.

(b) 720 لوگوں نے چڑیا گھر کی سیر کی جن میں سے 300 آدمی، 220 بچے اور 200 عورتیں تھیں۔ اس مواد کو پائی گراف پر ظاہر کیجئے۔

SCHOOL BASED ASSESSMENT 2023

MODEL PAPER

GRADE 7

MATHEMATICS PART – A (Objective Type)

[Paper A: 48 Marks, Paper B: 52 Marks, Total: 100 Marks]



School : _____
Tehsil : _____ District: _____

Student Name : _____ Section : _____

Roll Number : _____ Date : _____

General Instructions for students :

طلبہ کے لیے عمومی ہدایات:

1) Use mask & keep at least 3 ft. distance from each other.

۱۔ ماسک پہنیں اور آپس میں کم از کم 3 فٹ کا فاصلہ رکھیں۔

2) Read carefully and attempt all questions.

۲۔ غور سے پڑھیں اور تمام سوالات حل کریں۔

3) Encircle the correct option of each of the Multiple Choice Questions (MCQs) as shown in the example given below.

۳۔ ہر کثیر الانتخابی سوال کے صحیح جواب پر دائرہ لگائیں جیسا کہ نیچے دی گئی مثال میں دکھایا گیا ہے۔

Example : $64 \div 8 =$

a) 4 b) 6 c) 8 d) 12

4) If more than one options are encircled in a question, no mark will be given.

۴۔ اگر کسی سوال میں ایک سے زیادہ جوابات کے گرد دائرہ لگایا گیا تو کوئی نمبر نہیں دیا جائے گا۔

Total Marks: 48

Part-A (Multiple Choice Questions)

Total Time: 1 Hour

Instructions: Thirty two (32) Multiple Choice Questions (MCQs) are given in this paper. Each question carries 1.5 marks.

ہدایات: اس پیپر میں تیس (32) کثیر الانتخابی سوالات دیے گئے ہیں۔ ہر سوال کے 1.5 نمبر ہیں۔

Question No.1 : The set $A = \{a, e, i, o, u\}$ is written in the form:

سوال نمبر 1: سیٹ $A = \{a, e, i, o, u\}$ کو لکھنے کا طریقہ ہے۔

(a) Tabular

اندراجی

(b) Descriptive

بیانیہ

(c) Set builder

ترقیم ساز

(d) Power set

قوت سیٹ

Question No.2 : If $A = \{1, 2, 3, 4\}$ and $B = \{1, 2, 3\}$, then $A - B$ will be:

سوال نمبر 2: اگر $A = \{1, 2, 3, 4\}$ اور $B = \{1, 2, 3\}$ ہو تو $A - B$ ہو گا۔

(a) {1}

(b) {2}

(c) {3}

(d) {4}

Question No.3 : If $U = \{l, m, n, o\}$ and $C = \{o\}$, then complement of set C is:

سوال نمبر 3: اگر $U = \{l, m, n, o\}$ اور $C = \{o\}$ ہو تو سیٹ C کا کمپلیمنٹ ہے۔

(a) $\{o, l, m\}$

(b) $\{l, n, o\}$

(c) $\{l, m, n\}$

(d) $\{m, n, o\}$

Question No.4 : Which of the following is a rational number?

سوال نمبر 4: درج ذیل میں سے کون سا عدد ناطق ہے؟

(a) $\frac{-\sqrt{3}}{5}$

(b) $\frac{-5}{\sqrt{3}}$

(c) $\frac{-\sqrt{4}}{3}$

(d) $\frac{-\sqrt{2}}{3}$

Question No.5 : The sum of $\frac{3}{7}$ and $\frac{9}{11}$ is:

- (a) $\frac{12}{77}$
(c) $\frac{69}{77}$

- (b) $\frac{27}{77}$
(d) $\frac{96}{77}$

سوال نمبر 5: $\frac{3}{7}$ اور $\frac{9}{11}$ کا مجموعہ ہے۔

Question No.6 : Solve $\frac{3}{2} - \frac{1}{3}$

- (a) $\frac{1}{6}$
(c) $\frac{7}{6}$

- (b) $-\frac{1}{6}$
(d) $-\frac{7}{6}$

سوال نمبر 6: حل کریں۔ $\frac{3}{2} - \frac{1}{3}$

Question No.7 : Additive inverse of $-\frac{1}{3}$ is:

- (a) $-\frac{1}{3}$
(c) $\frac{3}{1}$

- (b) $-\frac{3}{1}$
(d) $\frac{1}{3}$

سوال نمبر 7: $-\frac{1}{3}$ کا جمعی معکوس ہے۔

Question No.8 : The multiplicative inverse of $-\frac{11}{9}$ is

- (a) $\frac{9}{11}$
(c) $-\frac{11}{9}$

- (b) $\frac{11}{9}$
(d) $-\frac{9}{11}$

سوال نمبر 8: $-\frac{11}{9}$ کا ضربی معکوس ہے۔

Question No.9 : When we change 0.24 to a rational number, we get:

- (a) $\frac{6}{25}$
(c) $\frac{18}{25}$

- (b) $\frac{8}{25}$
(d) $\frac{24}{25}$

سوال نمبر 9: جب ہم 0.24 کو ناطق عدد میں تبدیل کرتے ہیں، تو حاصل ہوتا ہے۔

Question No.10 : Which of the following is a terminating decimal fraction?

- (a) $\frac{1}{7}$
(c) $\frac{2}{3}$

- (b) $\frac{4}{9}$
(d) $\frac{2}{5}$

سوال نمبر 10: درج ذیل میں سے کون سی کسر مختتم کسر اعشاریہ ہے؟

Question No.11 : In $(5xy)^7$, the exponent is:

- (a) 5
(c) x

- (b) 7
(d) y

سوال نمبر 11: $(5xy)^7$ میں قوت نما ہے۔

Question No.12 : Solve $(\frac{5}{9})^2 \times (\frac{5}{9})^3$

- (a) $(\frac{5}{9})^2$
(c) $(\frac{5}{9})^5$

- (b) $(\frac{5}{9})^3$
(d) $(\frac{5}{9})^6$

سوال نمبر 12: حل کریں $(\frac{5}{9})^2 \times (\frac{5}{9})^3$

Question No.13 : Solve $[(-\frac{4}{7})^3]^6$

- (a) $(-\frac{4}{7})^3$
(c) $(-\frac{4}{7})^9$

- (b) $(-\frac{4}{7})^6$
(d) $(-\frac{4}{7})^{18}$

سوال نمبر 13: حل کریں $[(-\frac{4}{7})^3]^6$

Question No.14 : Which of the following is a perfect square?

- (a) 9
(c) 14

- (b) 12
(d) 24

سوال نمبر 14: درج ذیل میں سے کون سا عدد مکمل مربع ہے؟

Question No.15 : The square root of 784 is:

- (a) 22
(c) 32

- (b) 28
(d) 38

سوال نمبر 15: 784 کا جذر ہے۔

Question No.16 :

6 boys complete a work in 5 days. In how many days will 10 boys complete the same work?

سوال نمبر 16: ایک کام کو 6 لڑکے 5 دن میں مکمل کرتے ہیں۔ اسی کام کو 10 لڑکے کتنے دنوں میں مکمل کریں گے؟

- (a) 3 (b) 5
(c) 6 (d) 10

Question No.17 :

The speed of a racing car is 55 meter/second. Its speed in km/hour will be:

سوال نمبر 17: ایک ریسنگ کار کی سپیڈ 55 میٹر فی سیکنڈ ہے۔ اس کی سپیڈ کلومیٹر فی گھنٹہ میں ہوگی۔

- (a) 15 (b) 30
(c) 198 (d) 916

Question No.18 :

Tax paid at the rate of 3% on the property of Rs 201000 is:

سوال نمبر 18: 201000 روپے کی جائیداد پر 3 فی صد کے حساب سے واجب الادا ٹیکس ہوگا۔

- (a) Rs 5100 (b) Rs 6030
(c) Rs 6100 (d) Rs 7050

Question No.19 :

Jawad bought a mobile for Rs 60,000 and paid a markup of Rs 24,000 for 4 years. Markup rate is:

سوال نمبر 19: جواد نے ایک فون 60000 روپے میں خریدا اور چار سال کا مارک اپ 24000 روپے دیا۔ مارک اپ کی شرح ہے۔

- (a) 04% (b) 05%
(c) 10% (d) 40%

Question No.20 :

Annual saving of Waheed is Rs 120,000. The amount he will pay as zakat is:

سوال نمبر 20: وحید کی سالانہ بچت 120000 روپے ہے۔ اس کی زکوٰۃ کی رقم ہے۔

- (a) Rs 1200 (b) Rs 1500
(c) Rs 3000 (d) Rs 4000

Question No.21 :

Identify the polynomial:

سوال نمبر 21: کثیر رقمی کی نشان دہی کریں۔

- (a) $x^{-3} + 1$ (b) $x^2 + x^{\frac{1}{2}} + 3x - 2$
(c) $x^3 + x^2 - x^{-1} + 7$ (d) $x^4 + x^3 + 2x^2 - x - 7$

Question No.22 :

The polynomial $9a+13b+c$ is:

سوال نمبر 22: کثیر رقمی $9a+13b+c$ ہے۔

- (a) Monomial (b) Binomial
(c) Trinomial (d) Algebraic equation

Question No.23 :

Solve $(x - 2y + z) - (-2x + y + z)$

سوال نمبر 23: حل کریں $(x - 2y + z) - (-2x + y + z)$

- (a) $x - y$ (b) $3x - 3y$
(c) $3x - y$ (d) $x - 3y$

Question No.24 :

Solve $(x^2 - y^2) - (x^2 + y^2)$

سوال نمبر 24: حل کریں $(x^2 - y^2) - (x^2 + y^2)$

- (a) $2x^2$ (b) $-2x^2$
(c) $-2y^2$ (d) $2y^2$

Question No.25 :

The solution of the equation $\frac{1}{4}x = 8$ is

سوال نمبر 25: مساوات $\frac{1}{4}x = 8$ کا حل ہے۔

- (a) 4 (b) 8
(c) 12 (d) 32

Question No.26 :

Pair of complementary angles is:

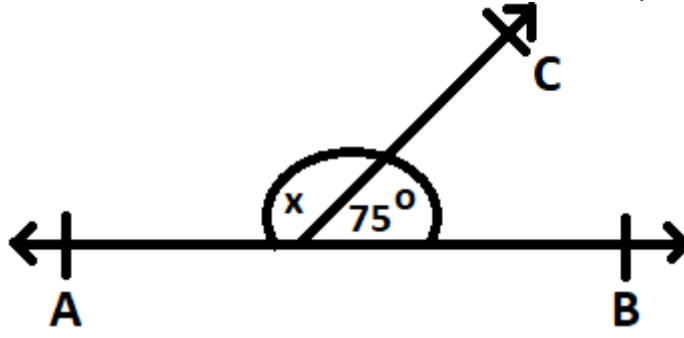
سوال نمبر 26: کمپلیمنٹری زاویوں کا جوڑا ہے۔

- (a) $\angle 30^\circ, \angle 45^\circ$ (b) $\angle 50^\circ, \angle 40^\circ$
(c) $\angle 80^\circ, \angle 100^\circ$ (d) $\angle 90^\circ, \angle 120^\circ$

Question No.27 :

In the given figure, the value of angle x is:

سوال نمبر 27: دی گئی شکل میں زاویہ x کی مقدار ہے۔



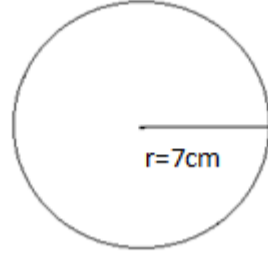
- (a) 15°
(c) 105°

- (b) 90°
(d) 180°

Question No.28 :

The circumference of given circle is:

سوال نمبر 28: دیے گئے دائرے کا محیط ہے۔



- (a) 14 cm
(c) 22 cm

سینٹی میٹر 14
سینٹی میٹر 22

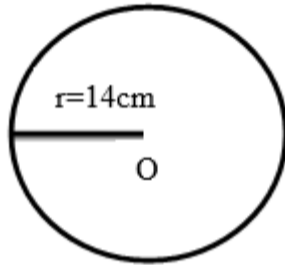
- (b) 21 cm
(d) 44 cm

سینٹی میٹر 21
سینٹی میٹر 44

Question No.29 :

Area of given circle is:

سوال نمبر 29: دیے گئے دائرے کا رقبہ ہے۔



- (a) 176 cm
(c) 616 cm

سینٹی میٹر 176
سینٹی میٹر 616

- (b) 176 cm^2
(d) 616 cm^2

مربع سینٹی میٹر 176
مربع سینٹی میٹر 616

Question No.30 :

If radius of a cylinder is 1cm and height is 2cm then surface area of cylinder is:

سوال نمبر 30: اگر ایک سلنڈر کا رداس 1 سینٹی میٹر ہو اور اس کی اونچائی 2 سینٹی میٹر ہو تو سلنڈر کا سطحی رقبہ ہے۔

- (a) 3.14 cm^2
(c) 9.42 cm^2

مربع سینٹی میٹر 3.14
مربع سینٹی میٹر 9.42

- (b) 6.28 cm^2
(d) 18.85 cm^2

مربع سینٹی میٹر 6.28
مربع سینٹی میٹر 18.85

Question No.31 :

In the class interval (41 – 70) the lower class limit is:

سوال نمبر 31: (41 – 70) کے جماعتی وقفے میں زیریں جماعتی حد ہے۔

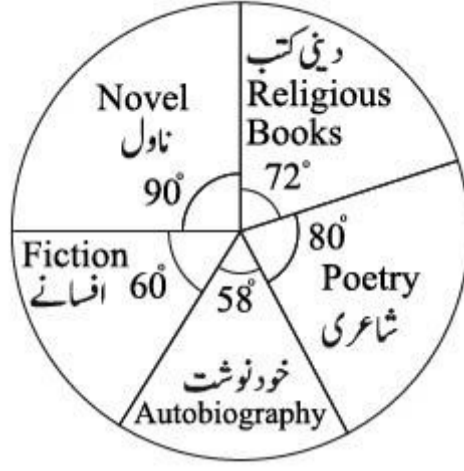
- (a) 41
(c) 70

- (b) 55.5
(d) 111

Question No.32 :

The following pie graph represents sale of different books, maximum selling books are:

سوال نمبر 32: درج ذیل پائی گراف مختلف کتابوں کی فروخت کو ظاہر کرتا ہے، سب سے زیادہ فروخت ہونے والی کتب ہیں۔



(a) Poetry

شاعری

(b) Fiction

افسانے

(c) Autobiography

خودنوشت

(d) Novel

ناول

SCHOOL BASED ASSESSMENT 2023
MODEL PAPER
GRADE 7



SCIENCE PART – B (Subjective Type)

[Paper A: 48 Marks, Paper B: 52 Marks, Total: 100 Marks]

School : _____
Tehsil : _____ District: _____

Student Name : _____ Section : _____

Roll Number : _____ Date : _____

General Instructions for students :

طلبا کے لیے عمومی ہدایات:

1. Use separate answer sheet for writing answers and give your personal information on it as well.
۱. جوابات لکھنے کے لیے علیحدہ سے جوابی کاپی کا استعمال کریں اور اس کے اوپر بھی اپنے بارے میں معلومات دیں۔
2. Read carefully and attempt all questions.
۲. غور سے پڑھیں اور تمام سوالات حل کریں۔
3. A question can consist of one or more parts.
۳. ایک سوال ایک یا ایک سے زیادہ حصوں پر مشتمل ہو سکتا ہے۔
4. Use black/blue ink for writing answers. Use of lead pencil is not allowed.
۴. جواب لکھنے کے لیے کالی/ نیلی روشنائی کا استعمال کریں۔ کچی پنسل کے استعمال کی اجازت نہیں ہے۔

Total Marks: 52

Part-B (Constructed Response Questions)

Total Time: 1 Hour 45 Minutes

Question No: 1

سوال نمبر 1

a) What is the function of heart in circulatory system. (2 Marks)

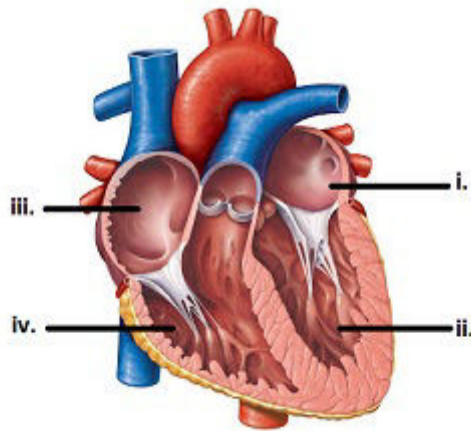
(a) سرکولیٹری سسٹم میں دل کا کیا کام ہے؟ (2)

b) Write two differences between arteries and veins. (4 Marks)

(b) آرٹریز اور وینز کے درمیان دو فرق لکھیں۔ (4)

c) Write the names of labeled parts in the diagram given below. (4 Marks)

(c) نیچے دی گئی ڈایاگرام کے لیبل شدہ حصوں کے نام لکھیں۔ (4)



Question No: 2

سوال نمبر 2

a) Define habitat. (2 Marks)

(a) مسکن کی تعریف لکھیں۔ (2)

b) Write the names of the habitats given below and two animals living in them. (8 Marks)

(b) ذیل میں دیے گئے مسکن کے نام اور ان میں رہنے والے دو جانوروں کے نام لکھیں۔ (8)



Question No: 3

سوال نمبر 3

a) Differentiate between physical and chemical changes with an example of each. (4 Marks)

(a) طبعی اور کیمیائی تبدیلیوں میں فرق لکھیں اور ایک ایک مثال دیں۔ (4)

b) Write a chemical change or physical change against each reaction. (8 Marks)

1. Burning of coal, 2. Turning of water into ice, 3. Rusting of iron, 4. Melting of wax

(b) ہر رد عمل کے سامنے کیمیائی تبدیلی یا طبعی تبدیلی لکھیں۔ (8)

1. کونے کا جلنا، 2. پانی کا برف میں بدلنا، 3. لوہے کو زنگ لگنا، 4. موم کا پگھلنا۔

Question No: 4

سوال نمبر 4

a) Define spectrum of light. (2 Marks)

(a) روشنی کے سپیکٹرم کی تعریف کریں۔ (2)

b) Describe the process by which fish can see above the water. (4 Marks)

(b) اس عمل کی وضاحت کریں جس کے ذریعے مچھلیاں پانی کے اوپر دیکھ سکتی ہیں۔ (4)

c) Write the changes of angles when light passes from air to glass and glass to air. (4 Marks)

(c) جب روشنی ہوا سے شیشے اور شیشے سے ہوا میں سے جاتی ہے تو اسکے زاویوں کی تبدیلیاں لکھیں۔ (4)

Question No: 5

سوال نمبر 5

a) Write the names of labeled parts in the given diagram. (3 Marks)

(a) دی گئی ڈایاگرام میں لیبل شدہ حصوں کے نام لکھیں۔ (3)



b) Define star and galaxy. (4 Marks)

(b) ستارے اور گلیکسی کی تعریف کریں۔ (4)

c) Write the names of three constellations that are visible at night in the sky. (3 Marks)

(c) رات میں آسمان پر نظر آنے والے تین کانسٹیلاشن کے نام لکھیں۔ (3)

SCHOOL BASED ASSESSMENT 2023

MODEL PAPER

GRADE 7

SCIENCE PART – A (Objective Type)

[Paper A: 48 Marks, Paper B: 52 Marks, Total: 100 Marks]



School : _____
Tehsil : _____ District: _____

Student Name : _____ Section : _____
Roll Number : _____ Date : _____

General Instructions for students :

طلباء کے لیے عمومی ہدایات:

1) Use mask & keep at least 3 ft. distance from each other.

۱۔ ماسک پہنیں اور آپس میں کم از کم 3 فٹ کا فاصلہ رکھیں۔

2) Read carefully and attempt all questions.

۲۔ غور سے پڑھیں اور تمام سوالات حل کریں۔

3) Encircle the correct option of each of the Multiple Choice Questions (MCQs) as shown in the example given below.

۳۔ ہر کثیر الانتخابی سوال کے صحیح جواب پر دائرہ لگائیں جیسا کہ نیچے دی گئی مثال میں دکھایا گیا ہے۔

Example : Covid-19 is caused by:

مثال : کووڈ-19 کی وجہ ہے :

a) bacteria بیکٹیریا

b) fungi فنجائی

c) virus وائرس

d) algae الگی

4) If more than one options are encircled in a question, no mark will be given.

۴۔ اگر کسی سوال میں ایک سے زیادہ جوابات کے گرد دائرہ لگایا گیا تو کوئی نمبر نہیں دیا جائے گا۔

Total Marks: 48

Part-A (Multiple Choice Questions)

Total Time: 1 Hour

Instructions: Thirty two (32) Multiple Choice Questions (MCQs) are given in this paper. Each question carries 1.5 marks.

ہدایات : اس پیپر میں بتیس (32) کثیر الانتخابی سوالات دیے گئے ہیں۔ ہر سوال کے 1.5 نمبر ہیں۔

Question No.1 : Which one of the following diseases is NOT due to disorder of respiratory system?

سوال نمبر 1: درج ذیل میں سے کون سی بیماری ریسپائریٹری سسٹم میں خرابی کی وجہ سے نہیں ہوتی؟

(a) Ulcer

السر

(b) Influenza

انفلوئنزا

(c) Tuberculosis

تپ دق

(d) Pneumonia

نمونیا

Question No.2 : Which of the following cells carry oxygen to cells of our body?

سوال نمبر 2: مندرجہ ذیل میں سے کون سے سیلز ہمارے جسم کے سیلز کو آکسیجن پہنچاتے ہیں؟

(a) White blood cells

سفید بلڈ سیلز

(b) Red blood cells

سرخ بلڈ سیلز

(c) Platelets

پلیٹ لیٹس

(d) Nerve cells

نرو سیلز

Question No.3 : Both breathing and burning processes use oxygen and release _____ gas.

سوال نمبر 3: سانس لینے اور جلانے کے عوامل دونوں آکسیجن کا استعمال کرتے ہیں اور _____ گیس خارج کرتے ہیں۔

(a) nitrogen

نائٹروجن

(b) carbon dioxide

کاربن ڈائی آکسائیڈ

(c) ammonia

امونیا

(d) hydrogen

ہائیڈروجن

Question No.4 : The normal value of blood pressure of a person is:

سوال نمبر 4: ایک شخص میں نارمل بلڈ پریشر کی مقدار _____ ہوتی ہے۔

- (a) 110/80 mmHg (b) 120/80 mmHg (c) 120/70 mmHg (d) 110/70 mmHg

Question No.5 : If a person feels cough and tightness in his chest, he is patient of:

سوال نمبر 5: اگر کوئی شخص کھانسی اور سینے میں جکڑن محسوس کرتا ہے تو یہ کس بیماری میں مبتلا ہے؟

- (a) high blood pressure (b) diabetes (c) heart attack (d) asthma
- ذیابیطس
دل کا دورہ
بلند فشار خون
دسمہ

Question No.6 : Cross-pollination produces which type of plants as compared to self-pollination?

سوال نمبر 6: کراس پولی نیشن میں سیلف پولی نیشن کے مقابلے میں کس قسم کے پودے پیدا ہوتے ہیں؟

- (a) Weak plants (b) Strong plants (c) Colourful plants (d) Fruitful plants
- مضبوط پودے
پھل دار پودے
کمزور پودے
رنگ دار پودے

Question No.7 : The process through which all living organisms produce more organisms like themselves is called:

سوال نمبر 7: ایسا عمل جس کے ذریعے تمام جاندار اپنے جیسے اور جاندار پیدا کرتے ہیں _____ کہلاتا ہے۔

- (a) pollination (b) reproduction (c) fertilization (d) germination
- پولی نیشن
ریپروڈکشن
فرٹیلائزیشن
جرمینیشن

Question No.8 : Which of the following habitats receives rain all year around?





سوال نمبر 8: مندرجہ ذیل میں سے کون سے مسکن میں سارا سال بارش ہوتی ہے؟

- (a) Deserts (b) Rainforest (c) Aquatic (d) Grass land
- ریگستان
مرطوب جنگلات
آبی
گھاس کا میدان

Question No.9 : Fill the empty circle with a suitable organism.

سوال نمبر 9: خالی دائرے کو مناسب جاندار سے پُر کریں۔



- (a)  (b)  (c)  (d) 

Question No.10 : Snake lives in the desert. What adaptation do you think enabled it to live in desert?

سوال نمبر 10: سانپ صحرا میں رہتا ہے آپ کے خیال میں کون سی موافقت اسے صحرا میں رہنے کے قابل بناتی ہے؟

- (a) Thick Fur (b) Scaly skin (c) Streamlined shape (d) webbed feet
- موٹی فر
نوکیلی شکل
کھردری جلد
جھلی دار پاؤں

Question No.11 : How bacteria causes water pollution?

سوال نمبر 11: بیکٹیریا پانی کو کیسے آلودہ کرتے ہیں؟

- (a) By increasing growth of algae (b) By releasing toxic gases (c) By spreading diseases (d) By causing acid rain
- الگی کی افزائش بڑھا کر
زہر آلود گیسوں خارج کر کے
بیماریاں پھیلا کر
تیزابی بارش کا سبب بن کر

Question No.12 : The water which does NOT produce good lather with soap is called:

سوال نمبر 12: ایسا پانی جو صابن کے ساتھ اچھی جھاگ نہیں بناتا _____ کہلاتا ہے۔

- (a) soft water (b) hard water (c) pleasant water (d) unpleasant water
- نرم پانی
سخت پانی
خوشگوار پانی
ناخوشگوار پانی

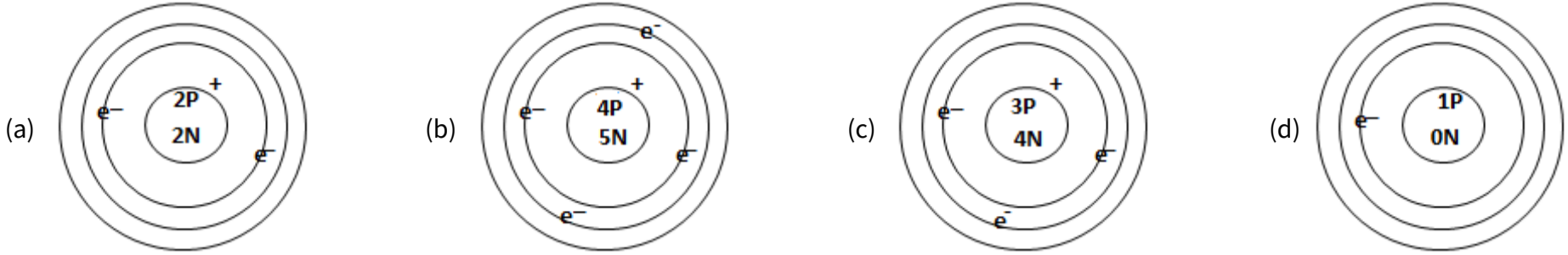
Question No.13 : Which is the smallest particle of matter?

سوال نمبر 13: مادے کا سب سے چھوٹا ذرہ کون سا ہے؟

- (a) Atom (b) Molecule (c) Element (d) Compound
- ایٹم
مالیکیول
عنصر
مرکب

Question No.14 : Identify the atomic structure of Beryllium.

سوال نمبر 14: بیریلیم کے ایٹمک سٹرکچر کی نشان دہی کریں۔

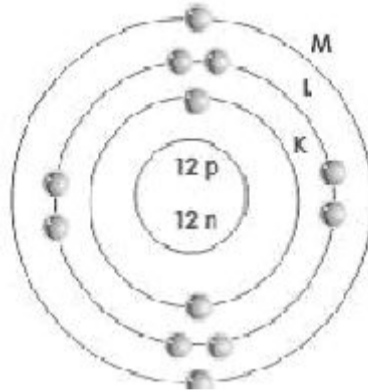


Question No.15 : Given below diagram shows which element?

سوال نمبر 15: ذیل میں دیا گیا خاکہ کون سے عنصر کا ہے؟

- (a) Sulphur
(b) Magnesium
(c) Aluminium
(d) Argon

سلفر
میگنیشیم
ایلو مینیم
آرگون



Question No.16 : Rusting of iron is which type of change?

سوال نمبر 16: لوہے کو زنگ لگنا کس قسم کی تبدیلی ہے؟

- (a) Physical change
(c) Chemical change

طبعی تبدیلی
کیمیائی تبدیلی

- (b) Change of pressure
(d) Change of colour

دباؤ کی تبدیلی
رنگ کی تبدیلی

Question No.17 : An example of irreversible change is:

سوال نمبر 17: _____ غیر رجعی تبدیلی کی مثال ہے۔

- (a) wetting dry cloth
(c) lightening a bulb

خشک کپڑا گیلا کرنا
بلب کا جلنا

- (b) mixing salt in water
(d) rotting of fruit

پانی میں نمک حل کرنا
پھل کا گلنا سٹرنا

Question No.18 : What is the main compound of automobile fuel?

سوال نمبر 18: آٹوموبائل ایندھن کا بنیادی کمپاؤنڈ کیا ہے؟

- (a) Hydrofluorocarbon
(c) Hydrocarbon

ہائیڈرو فلورو کاربن
ہائیڈرو کاربن

- (b) Nitrocarbon
(d) Chlorofluorocarbon

نائٹرو کاربن
کلورو فلورو کاربن

Question No.19 : Identify the correct statement about the shiny teapot and black teapot.

سوال نمبر 19: چمکدار سطح والی چائے دانی اور کالی سطح والی چائے دانی کے بارے میں درست بیان کا انتخاب کریں۔

- (a) Both are good absorbers of heat
(b) Both are good radiators of heat
(c) Shiny surface teapot keeps the tea warmer for a long time
(d) Black surface teapot keeps the tea warmer for a long time

دونوں حرارت کی اچھی جاذب ہیں

دونوں حرارت کا اچھا اخراج کرتی ہیں

چمکدار سطح والی چائے دانی چائے کو زیادہ دیر تک گرم رکھتی ہے

کالی سطح والی چائے دانی چائے کو زیادہ دیر تک گرم رکھتی ہے

Question No.20 : What happened to air when sunlight heats it up?

سوال نمبر 20: جب سورج کی روشنی ہوا کو گرم کرتی ہے تو ہوا کے ساتھ کیا ہوتا ہے؟

- (a) Expands and becomes heavier
(c) Contracts and becomes heavier

پھیلتی اور بھاری ہو جاتی ہے
سکڑتی اور بھاری ہو جاتی ہے

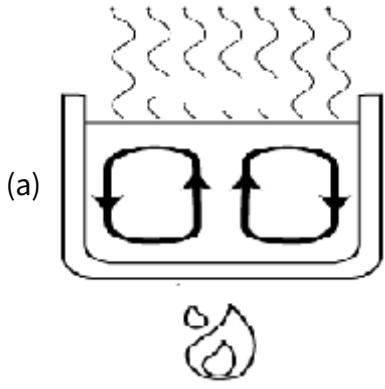
- (b) Expands and becomes lighter
(d) Contracts and becomes lighter

پھیلتی اور ہلکی ہو جاتی ہے
سکڑتی اور ہلکی ہو جاتی ہے

Question No.21 :

Identify the process of conduction from the figures given below.

سوال نمبر 21: نیچے دی گئی تصاویر سے کنڈکشن کے عمل کی شناخت کریں۔



(a)



(b)



(c)



Question No.22 :

The ratio of the speed of light in vacuum to the speed of light in the medium is called:

سوال نمبر 22: خلا میں روشنی کی رفتار اور کسی واسطہ میں روشنی کی رفتار کی نسبت _____ کہلاتی ہے۔

(a) reflective Index

رفلیکٹو انڈیکس

(b) refractive Index

رفریکٹو انڈیکس

(c) transmissive Index

ٹرانسمیو انڈیکس

(d) dispersive Index

ڈسپرسو انڈیکس

Question No.23 :

The pencil in the glass of water looks like broken at the waterline, it is due to:

سوال نمبر 23: پانی کے گلاس میں پینسل رکھی جائے تو وہ پانی کی سطح پر ٹوٹی لگتی ہے، اس کی وجہ _____ ہے۔

(a) reflection

ریفلیکشن

(b) dispersion

ڈسپرشن

(c) diffraction

ڈیفریکشن

(d) refraction

ریفریکشن



Question No.24 :

Which colour will be produced by mixing red, blue and green colours?

سوال نمبر 24: سرخ، نیلے اور سبز رنگ کے ملنے سے کون سا رنگ وجود میں آتا ہے؟

(a) Yellow

پیلا

(b) Pink

گلابی

(c) Orange

نارنجی

(d) White

سفید

Question No.25 :

Hertz (Hz) is the unit of:

سوال نمبر 25: ہرٹز کس مقدار کا یونٹ ہے؟

(a) Speed

رفتار

(b) Frequency

فریکوئنسی

(c) Wavelength

ویولینگتھ

(d) Amplitude

ایمپلی ٹیوڈ

Question No.26 :

According to the diagram which glass has the highest pitch?


سوال نمبر 26: ڈایا گرام کے مطابق کس گلاس کی پیچ سب سے زیادہ ہوگی؟

(a) A

(b) B

(c) C

(d) D



Question No.27 :

Which of the following is the best material for making ladder for electric work?

سوال نمبر 27: درج ذیل میں سے کون سا میٹریل بجلی کے کام کے لیے سب سے بہترین ہے؟

(a) Aluminum

ایلو مینیم

(b) Fiberglass

فائبر گلاس

(c) Wood

لکڑی

(d) Iron

لوہا

Question No.28 :

The process that is used to coat a metal object with a thin layer of another metal is called:

سوال نمبر 28: وہ عمل جو کسی دھاتی شے کو کسی دوسری دھات کی پتلی تہہ چڑھانے کے لیے استعمال ہوتا ہے، _____ کہلاتا ہے۔

(a) electrolysis

الیکٹرو لیسس

(b) electroplating

الیکٹرو پلٹنگ

(c) hydrogenation

ہائیڈرو جینیشن

(d) distillation

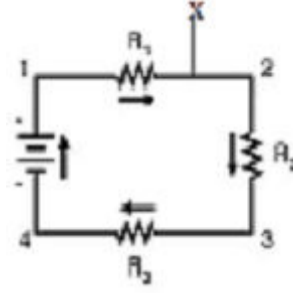
ڈسٹیلیشن

Question No.29 : What will happen if the X labeled part is broken in the given series circuit?

سوال نمبر 29: اگر دیئے گئے سیریز سرکٹ میں X سے لیبل شدہ حصے میں خلا آ جائے تو کیا ہو گا؟

- (a) Decrease in resistance
(b) Increase in voltage
(c) Stopping of current flow
(d) Increase in current flow

مزاحمت میں کمی
وولٹیج میں اضافہ
کرنٹ کا بہاؤ رک جانا
کرنٹ کے بہاؤ میں اضافہ



Question No.30 : When large amount of energy is generated in protostar, it becomes:

سوال نمبر 30: جب پروٹوسٹار میں بہت زیادہ انرجی پیدا ہوتی ہے، تو یہ _____ میں بدل جاتا ہے۔

- (a) white dwarf سفید بونے (b) a star ایک ستارے (c) red giant سرخ دیو (d) nebula نیبولا

Question No.31 : Clouds of gases and dust are called:

سوال نمبر 31: گیسوں اور گردوغبار کے بادل _____ کہلاتے ہیں۔

- (a) galaxy گیلکسی (b) star ستارہ (c) universe کائنات (d) nebula نیبولا

Question No.32 : Identify the name of galaxy shown in the given below image.

سوال نمبر 32: نیچے دی گئی تصویر میں دکھائی گئی گلیکسی کے نام کی شناخت کریں۔

- (a) Cassiopeia
(b) Megellan
(c) Andromeda
(d) Milky Way

کیسیوپیا
میگیلین
اینڈرومیڈا
ملکی وے



SCHOOL BASED ASSESSMENT 2023

MODEL PAPER

GRADE 7

SOCIAL STUDIES PART – B (Subjective Type)

[Paper A: 48 Marks, Paper B: 52 Marks, Total: 100 Marks]



School : _____
Tehsil : _____ District: _____

Student Name : _____ Section : _____

Roll Number : _____ Date : _____

General Instructions for students :

1. Read carefully and attempt all questions.

۱۔ غور سے پڑھیں اور تمام سوالات حل کریں۔

2. A question can consist of one or more parts.

۲۔ ایک سوال ایک یا ایک سے زیادہ حصوں پر مشتمل ہو سکتا ہے۔

3. Use black/blue ink for writing answers in separate answer sheet. Use of lead pencil is not allowed.

۳۔ جواب لکھنے کے لیے الگ سے جوابی کاپی میں کالی / نیلی روشنائی کا استعمال کریں۔ کچی پنسل کے استعمال کی اجازت نہیں ہے۔

Total Marks: 52

Part-B (Open Ended Questions)

Total Time: 1 Hour 45 Minutes

Question No: 1

سوال نمبر 1

a) Write a brief note on Hazrat Shah Waliullah's movement : (Marks 6)

(a) حضرت شاہ ولی اللہ کی تحریک پر مختصر نوٹ لکھیں: (نمبر 6)

b) Analyze the religious services of Shah Waliullah: (Marks 6)

(b) شاہ ولی اللہ کی دینی خدمات کا تجزیہ کریں: (نمبر 6)

Question No: 2

سوال نمبر 2

a) What are the things that man uses to find out the internal structure of the earth? (Marks 02)

(a) زمین کی اندرونی ساخت کا پتہ چلانے کے لئے انسان کن چیزوں کا استعمال کرتا ہے؟ (نمبر 02)

b) What is meant by volcanic action ? Write two effects of the volcanic process and describe any two types of volcanoes. (Marks 08)

(b) آتش فشانی کے عمل سے کیا مراد ہے؟ آتش فشانی کے عمل کے دو اثرات لکھیں، اور آتش فشانی کی کوئی سی دو اقسام بیان کریں: (نمبر 08)

Question No: 3

سوال نمبر 3

a) Describe vertical distribution of temperature. (Marks 05)

(a) درجہ حرارت کی عمودی تقسیم بیان کریں: (نمبر 05)

b) Describe the reasons of change in temperature due to air pressure. (Marks 05)

(b) ہوا کے دباؤ سے درجہ حرارت میں تبدیلی کی وجوہات بیان کریں: (نمبر 05)

Question No: 4

سوال نمبر 4

a) Write the personality traits of Abu Al-Muzaffar Mohi-ud-Din Aurangzeb Alamgir: (Marks 06)

(a) ابوالمظفر محی الدین اورنگزیب عالمگیر کی شخصیت کی خصوصیات لکھیں: (نمبر 06)

b) Describe Aurangzeb's religious policy. (Marks 06)

(b) اورنگزیب کی مذہبی پالیسی بیان کریں: (نمبر 06)

Question No: 5

سوال نمبر 5

a) Where did born Naseer U Din Muhammad Hamayun? (Marks 02)

(a) نصیر الدین محمد ہمایوں کہاں پیدا ہوا؟ (نمبر 02)

b) What did Mirza Hindal do to his brother Naseeruddin Humayun? (Marks 04)

(b) نصیر الدین ہمایوں کے ساتھ اس کے بھائی مرزا ہندال نے کیا دھوکا کیا؟ (نمبر 04)

c) Give two reasons for Zahiruddin Babar's invasion of the subcontinent: (Marks 04)

(c) بابر کی برصغیر پاک و ہند کو فتح کرنے کی دو وجوہات بتائیں: (نمبر 04)

SCHOOL BASED ASSESSMENT 2023

MODEL PAPER

GRADE 7

SOCIAL STUDIES PART – A (Objective Type)

[Paper A: 48 Marks, Paper B: 52 Marks, Total: 100 Marks]



School : _____

Tehsil : _____

District: _____

Student Name : _____

Section : _____

Roll Number : _____

Date : _____

General Instructions for students :

طلبہ کے لیے عمومی ہدایات:

1) Use mask & keep at least 3 ft. distance from each other.

۱۔ ماسک پہنیں اور آپس میں کم از کم 3 فٹ کا فاصلہ رکھیں۔

2) Read carefully and attempt all questions.

۲۔ غور سے پڑھیں اور تمام سوالات حل کریں۔

3) Encircle the correct option of each of the Multiple Choice Questions (MCQs) as shown in the example given below.

۳۔ ہر کثیر الانتخابی سوال کے صحیح جواب پر دائرہ لگائیں جیسا کہ نیچے دی گئی مثال میں دکھایا گیا ہے۔

Example : Which country is located in the north of Pakistan?

مثال : پاکستان کے شمال میں کون سا ملک واقع ہے؟

a) India بھارت

b) Afghanistan افغانستان

© China چین

d) Iran ایران

4) Use black/blue ink for writing. Use of lead pencil is not allowed.

۴۔ لکھنے کے لیے کالی/ نیلی روشنائی کا استعمال کریں۔ کچی پنسل کے استعمال کی اجازت نہیں ہے۔

5) If more than one options are encircled in a question, no mark will be given.

۵۔ اگر کسی سوال میں ایک سے زیادہ جوابات کے گرد دائرہ لگایا گیا تو کوئی نمبر نہیں دیا جائے گا۔

Total Marks: 48

Part-A (Multiple Choice Questions)

Total Time: 1 Hour

Instructions: Thirty two (32) Multiple Choice Questions (MCQs) are given in this paper. Each question carries 1.5 marks.

ہدایات : اس پیپر میں تیس (32) کثیر الانتخابی سوالات دیے گئے ہیں۔ ہر سوال کا 1.5 نمبر ہے۔

Question No.1 : The main reason for the division of the lithosphere into small and large parts is:

سوال نمبر 1: لتھوسفر کی چھوٹے بڑے حصوں میں تقسیم کی اہم وجہ ہے:

(a) Foldings

فولڈنگ

(b) Volcanism

آتش فشانی

(c) Faults

فالٹ

(d) Earthquakes

زلزلے

Question No.2 : The most abundant elements in the Earth's inner core are:

سوال نمبر 2: زمین کے اندرونی مرکزہ میں سب سے زیادہ مقدار میں پائے جانے والے ایلیمنٹس ہیں:

(a) brass and nickel

پیتل اور نکل

(b) nickel and iron

نکل اور لوہا

(c) silicone and magnesium

سلیکون اور میگنیشیم

(d) silicone and iron

سلیکون اور لوہا

Question No.3 : A seismograph is used to find the:

سوال نمبر 3: سیموگراف، معلوم کرنے کے لیے استعمال ہوتا ہے:

(a) amount of rain

بارش کی مقدار

(b) magnitude of an earthquake

زلزلے کی شدت

(c) speed of wind

ہوا کی رفتار

(d) intensity of heat

گرمی کی شدت

Question No.4 : The cause of weathering in arid and desert areas is:

سوال نمبر 4: خشک اور صحرائی علاقوں میں عمل فرسودگی کی وجہ ہے:

(a) difference in temperature

درجہ حرارت میں فرق

(b) heavy rain

بارش کی زیادتی

(c) high winds

ہوا کا تیز چلنا

(d) the difference between day and night

دن اور رات کا فرق

Question No.5 : Types of denudation are:

سوال نمبر 5: عریاں کاری کی اقسام ہیں:

(a) three

تین

(b) four

چار

(c) five

پانچ

(d) Six

چھ

Question No.6 : The gas used for cooling in refrigerator is:

سوال نمبر 6: ریفریجریٹر کو ٹھنڈا کرنے کے لیے گیس استعمال ہوتی ہے:

(a) Oxygen

آکسیجن

(b) Nitrogen

نائٹروجن

(c) Carbon-Di-Oxide

کاربن ڈائی آکسائیڈ

(d) Chloro Fluoro Carbon

کلوروفلوروکاربن

Question No.7 : It is essential for the growth of plants and animals:

سوال نمبر 7: پودوں اور حیوانات کی نشوونما کے لئے اشد ضروری ہیں:

(a) protiens

پروٹینز

(b) vitamins

وٹامنز

(c) carbohydrates

کاربوہائیڈریٹس

(d) fats

فیٹس

Question No.8 : Freezing point is the temperature at which water changes into:

سوال نمبر 8: نقطہ انجماد وہ درجہ حرارت ہے جب پانی تبدیل ہو جاتا ہے:

(a) liquid

مائع میں

(b) ice

برف میں

(c) vapours

بخارات میں

(d) gas

گیس میں

Question No.9 : The unit of measurement of air pressure is:

سوال نمبر 9: ہوا کے دباؤ کو ماپنے کی اکائی ہے:

(a) Milli meter

ملی میٹر

(b) Milli bar

ملی بار

(c) Milli gram

ملی گرام

(d) Milli liter

ملی لیٹر

Question No.10 : The winds moving from high pressure to low pressure areas are called:

سوال نمبر 10: ہواؤں کا زیادہ دباؤ سے کم دباؤ والے علاقے میں چلنا کہلاتا ہے:

(a) storm

طوفان

(b) wind

آندھی

(c) cyclone

گردباد

(d) flood

سیلاب

Question No.11 : Rainy season in Pakistan starts in:

سوال نمبر 11: پاکستان میں بارش کا موسم شروع ہوتا ہے:

(a) winter

موسم سرما میں

(b) summer

موسم گرما میں

(c) spring

موسم بہار میں

(d) autumn

موسم خزاں میں

Question No.12 : An important thing in the creation of humans, animals, and plants is:

سوال نمبر 12: انسان، حیوان اور نباتات کی تخلیق میں اہم چیز ہے:

(a) air

ہوا

(b) water

پانی

(c) soil

مٹی

(d) fire

آگ

Question No.13 : The important means of irrigation in Balochistan is:

سوال نمبر 13: بلوچستان میں آبپاشی کا اہم ذریعہ ہے:

- | | | | |
|----------------|----------|-------------|-------|
| (a) tube-wells | ٹیوب ویل | (b) karez | کاریز |
| (c) wells | کنویں | (d) springs | چشمے |

Question No.14 : Zaheer-Ud-Din Muhammad Babar was a very powerful and courageous ruler because he belonged to:

سوال نمبر 14: ظہیر الدین محمد بابر ایک بہت طاقتور اور جرات و ہمت والا حکمران تھا، کیونکہ اس کا تعلق تھا:

- | | | | |
|-------------------|------------------|----------------------------|-------------------------|
| (a) Rajput family | راجپوت خاندان سے | (b) Mongol and Turk family | منگول اور ترک خاندان سے |
| (c) Sadaat family | سادات خاندان سے | (d) Irani royal family | ایرانی شاہی خاندان سے |

Question No.15 : The greatest wisdom of Shahanshah Akbar to replace the feudal system into "Mansab Dari" was:

سوال نمبر 15: شہنشاہ اکبر کے جاگیرداری نظام کو بدل کر منصب داری نظام رائج کرنے کی سب سے بڑی حکمت تھی:

- | | | | |
|-------------------------------|----------------------|--------------------------------------|-----------------------|
| (a) gaining power | طاقت کا حصول | (b) to resolve administrative issues | انتظامی مسائل حل کرنا |
| (c) the welfare of the people | عوام کی فلاح و بہبود | (d) conspiracies of feudal lords | جاگیرداروں کی سازشیں |

Question No.16 : The most important role played for finishing of Deen-E-Elahi of Jalal-U-Din Akbar was of:

سوال نمبر 16: جلال الدین محمد اکبر کے دین الہی کو ختم کرنے میں سب سے اہم کردار تھا:

- | | | | |
|-----------------------------------|--------------------------|----------------------------------|-------------------------|
| (a) Sheikh Mubarak | شیخ مبارک کا | (b) Hazrat Shiekh Ahmed Sarhindi | حضرت شیخ احمد سرہندی کا |
| (c) Noor ud Din Muhammad Jahangir | نورالدین محمد جہانگیر کا | (d) Hazrat Shiekh Saleem Chishti | حضرت شیخ سلیم چشتی کا |

Question No.17 : A building included in the "seven wonders" of the world, and is heartening to see again and again is:

سوال نمبر 17: دنیا کے سات عجائبات میں شمار ایک ایسی عمارت جسے بار بار دیکھنے کو دل چاہتا ہے:

- | | | | |
|-----------------------|------------------|------------------|---------|
| (a) Red Fort of Delhi | دہلی کا لال قلعہ | (b) Sheesh Mahal | شیش محل |
| (c) Wazir Khan Mosque | مسجد وزیر خاں | (d) Taj Mahal | تاج محل |

Question No.18 : After the death of a Mansabdar, all of his property was confiscated in favour of:

سوال نمبر 18: منصب دار کے مرنے کے بعد اس کی تمام جائیداد ضبط بحق کر لی جاتی:

- | | | | |
|------------------|-------------|-------------|--------|
| (a) Government | سرکار | (b) parents | والدین |
| (c) needy people | ضرورت مندوں | (d) wife | بیوی |

Question No.19 : The policy of the Mughals that made their peoples loyal to them was:

سوال نمبر 19: مغلوں کی پالیسی جس کی وجہ سے رعایا ان کی وفادار بن گئی:

- | | | | |
|---------------|-------|-----------------|--------|
| (a) political | سیاسی | (b) religious | مذہبی |
| (c) social | سماجی | (d) educational | تعلیمی |

Question No.20 : Battle of Plassey was fought between:

سوال نمبر 20: جنگ پلاسی لڑی گئی:

- | | | | |
|----------------------------------|------------------------------------|------------------------------|---------------------------------|
| (a) Siraj Ud Duaulah and British | سراج الدولہ اور انگریزوں کے درمیان | (b) Tipu Sultan and Marhatas | ٹیپو سلطان اور مرہٹوں کے درمیان |
| (c) Siraj Ud Daulha and Marhatas | سراج الدولہ اور مرہٹوں کے درمیان | (d) Siraj-O-Dolah and Sikhs | سراج الدولہ اور سکھوں کے درمیان |

Question No.21 : The shortcoming of Muhammad Moazzam (Bahadur Shah I) that weakened the system of government was his:

سوال نمبر 21: محمد معظم (بہادر شاہ اول) میں وہ کمی جس کی بناء پر نظام حکومت کمزور ہو گیا:

- | | | | |
|-------------------------|---------------------|-----------------------|--------------|
| (a) gentle temperament | نرم مزاجی | (b) generosity | فراخ دلی |
| (c) weak judgment power | قوت فیصلہ کی کمزوری | (d) lack of education | تعلیم کی کمی |

Question No.22 : Due to Bahadur Shah's kindness, many Governors became:

سوال نمبر 22: بہادر شاہ کی نرم مزاجی اور بے عملی سے بہت سے امرا ہو گئے:

- | | | | |
|--------------|--------|------------|---------|
| (a) cheerful | خوش دل | (b) strong | طاقت ور |
| (c) weak | کمزور | (d) rich | امیر |

Question No.23 : Mughals ruled over Sub-Continent for:

سوال نمبر 23: مغلوں نے برصغیر پر حکومت کی:

- | | | | |
|---------------|---------|---------------|---------|
| (a) 321 years | 321 سال | (b) 331 years | 331 سال |
| (c) 341 years | 341 سال | (d) 351 years | 351 سال |

Question No.24 : Haider Ali died in:

سوال نمبر 24: حیدر علی نے وفات پائی:

- | | | | |
|----------|----------|----------|----------|
| (a) 1761 | 1761 میں | (b) 1782 | 1782 میں |
| (c) 1799 | 1799 میں | (d) 1857 | 1857 میں |

Question No.25 : The first Nuclear energy plant in Pakistan was established at:

سوال نمبر 25: پاکستان میں پہلا ایٹمی توانائی کا پلانٹ قائم ہوا:

- | | | | |
|-------------|-----------|---------------|----------------|
| (a) Karachi | کراچی میں | (b) Chashma | چشمہ میں |
| (c) Lahore | لاہور میں | (d) Islamabad | اسلام آباد میں |

Question No.26 : Factories of Automobile are located in:

سوال نمبر 26: آٹوموبائل کے کارخانے واقع ہیں:

- | | | | |
|-------------------------------|----------------------------|---------------------------|-------------------------|
| (a) Peshawar and Quetta | پشاور اور کوئٹہ میں | (b) Lahore and Karachi | لاہور اور کراچی میں |
| (c) Faisalabad and Rawalpindi | فیصل آباد اور راولپنڈی میں | (d) Multan and Faisalabad | ملتان اور فیصل آباد میں |

Question No.27 : All the buyers and sellers involved in the domestic exchange of goods and services belong to:

سوال نمبر 27: ملکی تجارت میں اشیا اور خدمات کے خریدنے اور فروخت کرنے والے باشندے ہوتے ہیں:

- | | | | |
|--------------|-------------|-------------|------------|
| (a) village | ایک گاؤں کے | (b) city | ایک شہر کے |
| (c) province | ایک صوبے کے | (d) country | ایک ملک کے |

Question No.28 : The Silk highway is important source of link between the two countries:

سوال نمبر 28: شاہراہ ریشم ان دو ممالک کے رابطے کا اہم ذریعہ ہے:

- | | | | |
|------------------------|-------------------|---------------------------|---------------------|
| (a) India and Pakistan | بھارت اور پاکستان | (b) Afghanistan and India | افغانستان اور بھارت |
| (c) China and Pakistan | چین اور پاکستان | (d) Bangladesh and China | بنگلہ دیش اور چین |

Question No.29 : Bilateral trade with other countries is called:

سوال نمبر 29: دوسرے ممالک کے ساتھ باہمی تجارت کہلاتی ہے:

- | | | | |
|--------------------|--------------|-------------------------|-------------|
| (a) national trade | ملکی تجارت | (b) International trade | عالمی تجارت |
| (c) balanced trade | متوازن تجارت | (d) local trade | مقامی تجارت |

Question No.30 : The ancient area for the production of mineral oil in Pakistan is:

سوال نمبر 30: پاکستان میں معدنی تیل کی پیداوار کا قدیم خطہ ہے:

- | | | | |
|----------------------|--------------------|-------------------------|--------------------|
| (a) Pothohar Plateau | سطح مرتفع پوٹھوہار | (b) Baluchistan Pleatue | سطح مرتفع بلوچستان |
| (c) nothern areas | شمالی علاقہ جات | (d) coastal areas | ساحلی علاقہ جات |

Question No.31 : British, Marhattas and Nizam Hyder Abad attacked on Mesoor in:

سوال نمبر 31: انگریزوں، مرہٹوں اور نظام حیدر آباد نے میسور پر حملہ کیا:

- | | | | |
|----------|-----------|----------|-----------|
| (a) 1767 | 1767ء میں | (b) 1785 | 1785ء میں |
| (c) 1800 | 1800ء میں | (d) 1857 | 1857ء میں |

Question No.32 :

In 1767, Haider Ali defeated the British by:

سوال نمبر 32: 1767 میں حیدر علی نے انگریزوں کو شکست دی:

- (a) creating revolt in the British army انگریز فوج میں بغاوت پیدا کر کے (b) separating Nizam of Hyderabad from British army نظام حیدر آباد کو انگریزوں سے علیحدہ کر کے
- (c) separating Marathas and Nizam of Hyderabad from British مرہٹوں اور نظام حیدر آباد کو انگریزوں سے علیحدہ کر کے (d) defeating the Sikhs سکھوں کو شکست دے کر

SCHOOL BASED ASSESSMENT 2023

MODEL PAPER

GRADE 7

TEACHING OF QURAN MAJEED PART – B (Subjective Type)

[Part A:15 Marks Part B: 35 Marks Total: 50 Marks]



School : _____
Tehsil : _____ District: _____

Student Name : _____ Section : _____

Roll Number : _____ Date : _____

General Instructions for students :

1. Use separate answer sheet for writing answers and give your personal information on it as well.

جو بات لکھنے کے لیے علیحدہ سے جوابی کاپی کا استعمال کریں اور اس کے اوپر بھی اپنے بارے میں معلومات دیں۔

2. Read carefully and attempt all questions

غور سے پڑھیں اور تمام سوالات حل کریں۔

3. A question can consist of one or more parts

ایک سوال ایک یا ایک سے زیادہ حصوں پر مشتمل ہو سکتا ہے۔

4. Use black/blue ink for writing answers. Use of lead pencil is not allowed.

لکھنے کے لیے کالی / نیلی روشنائی کا استعمال کریں۔ کچی پنسل کے استعمال کی اجازت نہیں ہے۔

Total Marks:35

Part-B (Constructed Response Questions)

Total Time: 1 Hour 30 Minutes

ہدایات اردو میں: مختصر سوالات میں سے پانچ سوالات کے جوابات مطلوب ہیں ہر سوال کے 2 نمبر دیئے جائیں، آیات کے تراجم میں سے کسی تین آیات کے تراجم لکھیں ہر سوال کے 5 نمبر دیئے جائیں جب کہ آخر میں دیئے گئے 10 نمبر کے سوالات میں سے ایک سوال کا جواب دیا جائے۔

سوال نمبر 1: : سورة القارعة کے حوالے سے قیامت کا منظر بیان کریں۔(2)

سوال نمبر 2: : سورة البقرة میں "خیر البریة" سے کیا مراد ہے؟(2)

سوال نمبر 3: : حضرت داؤد علیہ السلام کی کوئی سی دو خصوصیات بیان کریں۔(2)

سوال نمبر 4: : سورة التین میں "احسن تقویم" سے کیا مراد ہے؟(2)

سوال نمبر 5: : سورة العلق کی ابتدائی آیات میں کس چیز پر زور دیا گیا ہے؟(2)

سوال نمبر 6: : مناسک حج کس نبی علیہ السلام کی طرف منسوب ہیں؟(2)

سوال نمبر 7: : لفظ التکاثر کا مفہوم لکھیں۔(2)

سوال نمبر 8: : سورة التکاثر کی روشنی میں مال جمع کرنے والوں کا انجام لکھیں۔(2)

سوال نمبر 9: : كَلَّا لَيُنْبَذَنَّ فِي الْحُطَمَةِ (4) وَمَا أَدْرَاكَ مَا الْحُطَمَةُ (5) نَارُ اللَّهِ الْمَوْقُودَةُ (6)

سوال نمبر 10: : كَلَّا لَيُنْبَذَنَّ فِي الْحُطَمَةِ (4) وَمَا أَدْرَاكَ مَا الْحُطَمَةُ (5) نَارُ اللَّهِ الْمَوْقُودَةُ

سوال نمبر 11: : الْقَارِعَةُ (1) مَا الْقَارِعَةُ (2) وَمَا أَدْرَاكَ مَا الْقَارِعَةُ (3) يَوْمَ يَكُونُ النَّاسُ كَالْفَرَاشِ الْمَبْثُوثِ (4) وَتَكُونُ الْجِبَالُ كَالْعِهْنِ الْمَنْفُوشِ (5)

سوال نمبر 12: : فَهَوَّ فِي عَيْشَةٍ رَاضِيَةٍ (7) وَأَنَا مَنْ خَفَّتْ مَوَازِينُهُ (8) فَأَنَّهُ هَٰوِيَةٌ (9) وَمَا أَدْرَاكَ مَا هِيَ (10) نَارًا حَامِيَةً (11)

سوال نمبر 13: : أَكَلًا لَوْ تَعْلَمُونَ عِلْمَ الْيَقِينِ (5) لَتَرَوُنَّ الْجَحِيمَ (6) ثُمَّ لَتَرَوْهَا وَعَيْنًا يُبْصِرِينَ (7) ثُمَّ لَنَسْأَلَنَّ يَوْمَئِذٍ عَنِ النَّعِيمِ (8)

سوال نمبر 14: : حضرت ابراہیم علیہ السلام کی دینی خدمات کا جائزہ لیں۔(10)

سوال نمبر 15: : سورة لقدر کے نمایاں مضامین کا جائزہ لیں۔ (10)

SCHOOL BASED ASSESSMENT 2023

MODEL PAPER

GRADE 7

TEACHING OF QURAN MAJEED PART – A (Objective Type)

[Part A:15 Marks Part B: 35 Marks Total: 50 Marks]



School : _____

Tehsil : _____

District: _____

Student Name : _____

Section : _____

Roll Number : _____

Date : _____

General Instructions for students :

طلباء کے لیے عمومی ہدایات:

1) Use mask & keep at least 3 ft. distance from each other.

۱۔ ماسک پہنیں اور آپس میں کم از کم 3 فٹ کا فاصلہ رکھیں۔

2) Read carefully and attempt all questions.

۲۔ غور سے پڑھیں اور تمام سوالات حل کریں۔

3) Encircle the correct option of each of the Multiple Choice Questions (MCQs) as shown in the example given below.

۳۔ ہر کثیر الانتخابی سوال کے صحیح جواب پر دائرہ لگائیں جیسا کہ نیچے دی گئی مثال میں دکھایا گیا ہے۔

مثال : مسلمانوں پر روزانہ کتنی نمازیں فرض ہیں؟

Example : How many Salah are obligatory for Muslims in a day?

Four

(b) چار

Three

(a) تین

Six

(d) چھ

Five

(c) پانچ

4) If more than one options are encircled in a question, no mark will be given.

۴۔ اگر کسی سوال میں ایک سے زیادہ جوابات کے گرد دائرہ لگایا گیا تو کوئی نمبر نہیں دیا جائے گا۔

Total Marks: 15

Part-A (Multiple Choice Questions)

Total Time: 30 minutes

Instructions: Twenty-five (15) Multiple Choice Questions (MCQs) are given in this part. Each question carries one mark.

ہدایات: اس حصہ میں 15 کثیر الانتخابی سوالات دیے گئے ہیں۔ ہر سوال کا ایک نمبر ہے۔

سوال نمبر 1: الارض کا ترجمہ ہے:

(d) سمندر

(c) پہاڑ

(b) آسمان

(a) زمین

سوال نمبر 2: قرآن کے مطابق اللہ نے زمین کو بنایا:

(d) بچھونا (فرش)

(c) بیابان

(b) خوب صورت

(a) ریگستان

سوال نمبر 3: سورة التكاثر کے مطابق انسان کو کس چیز نے ہلاکت میں مبتلا کر رکھا ہے؟

(d) نفسانی خواہشات نے

(c) مال کی لالچ نے

(b) گناہوں نے

(a) جنگ و قتال نے

سوال نمبر 4: عصا کا معجزہ عطا کیا گیا:

(d) حضرت موسیٰ علیہ السلام کو

(c) حضرت صالح علیہ السلام کو

(b) حضرت ہود علیہ السلام کو

(a) حضرت نوح علیہ السلام کو

سوال نمبر 5: لیلۃ القدر بہتر ہے:

(d) تمام راتوں سے

(c) ہزار مہینوں سے

(b) ہزار راتوں سے

(a) تمام عمر سے

سوال نمبر 6: کس قوم میں اونٹنی بطور معجزہ بھیجی گئی؟

- (a) قوم عاد میں
(b) قوم میں
(c) قوم ثمود میں
(d) حضرت شعیب علیہ السلام کی قوم میں

سوال نمبر 7: سورة العلق کے مطابق اللہ نے انسان کو علم سکھایا:

- (a) کتاب کے ذریعے
(b) فرشتوں کے ذریعے
(c) صفحات کے ذریعے
(d) قلم کے ذریعے

سوال نمبر 8: اللہ تعالیٰ نے آسمان بنائے:

- (a) تین
(b) پانچ
(c) سات
(d) نو

سوال نمبر 9: علق کے معنی ہیں:

- (a) گروہ
(b) لو تھڑا
(c) گردن
(d) جسم

سوال نمبر 10: انسان کب اپنے عزیز و اقارب اور والدین سے دور بھاگے گا؟

- (a) موت کے وقت
(b) غربت کے وقت
(c) قیامت کے دن
(d) میدان جنگ میں

سوال نمبر 11: قیامت والے دن زمین اپنا بوجھ نکال دے گی سے مراد ہے:

- (a) خزانے اگل دینا
(b) زمین سے معدنیات کا نکلنا
(c) قبروں سے مردوں کا نکلنا
(d) زمین سے لاوا نکلنا

سوال نمبر 12: القارعة کا معنی ہے:

- (a) بکھرے ہوئی
(b) خوفناک
(c) دھکتی آگ
(d) کھڑکھڑانے والی

سوال نمبر 13: کراما کا تبیین سے مراد کون سے فرشتے ہیں؟

- (a) موت کے فرشتے
(b) بارش کے فرشتے
(c) قبر میں حساب لینے والے فرشتے
(d) نامہ اعمال لکھنے والے فرشتے

سوال نمبر 14: الذین امنوا و عملوا الصالحات کا مفہوم ہے:

- (a) مال و دولت والے
(b) عبادت کرنے والے
(c) علم حاصل کرنے والے
(d) ایمان اور اعمال صالح والے

سوال نمبر 15: اللہ نے آپ علیہ السلام کو وسیع سلطنت عطا فرمائی:

- (a) حضرت موسیٰ علیہ السلام
(b) حضرت ہود علیہ السلام
(c) حضرت صالح علیہ السلام
(d) حضرت داؤد علیہ السلام

SCHOOL BASED ASSESSMENT 2023

MODEL PAPER

GRADE 7

URDU PART – A (Objective Type)

[Part A: 48 Marks Part B: 52 Marks Total: 100 Marks]



School : _____

Tehsil : _____

District: _____

Student Name : _____

Section : _____

Roll Number : _____

Date : _____

طلبا کے لیے عمومی ہدایات:

۱۔ ماسک پہنیں اور آپس میں کم از کم 3 فٹ کا فاصلہ رکھیں۔

۲۔ غور سے پڑھیں اور تمام سوالات حل کریں۔

۳۔ ہر کثیر الانتخابی سوال کے صحیح جواب پر دائرہ لگائیں جیسا کہ نیچے دی گئی مثال میں دکھایا گیا ہے۔

مثال : چیچڑ کی وجہ سے پھیلنے والی بیماری ہے:

(a) پولیو

(b) خسرہ

(c) ڈینگی

(d) کانگو

۴۔ اگر کسی سوال میں ایک سے زیادہ جوابات کے گرد دائرہ لگایا گیا تو کوئی نمبر نہیں دیا جائے گا۔

کل نمبر: 48

(حصہ الف) کثیر الانتخابی سوالات

وقت: 1 گھنٹہ

ہدایات: اس پیپر میں تیس کثیر الانتخابی سوالات دیے گئے ہیں۔ ہر سوال کے 1.5 نمبر ہیں۔

سوال نمبر 1: "بے وقوف مالدار کے لیے" ضرب المثل بولی جاتی ہے:

(a) نام بڑا، درشن چھوٹے

(b) عقل بڑی کہ بھینس

(c) عقل کا اندھا گانٹھ کا پورا

(d) رام رام چپنا، پرایا مال اپنا

سوال نمبر 2: سلطان محمود غزنوی سبکتگین کا نامور فرزند تھا۔ "فرزند" کا لغوی معنی ہے:

(a) سپاہی

(b) بیٹا

(c) وزیر

(d) دوست

سوال نمبر 3: محاورہ کے درست استعمال پر مشتمل جملہ ہے:

(a) اچھے اچھے خواب دیکھا کرو۔

(b) مجھے سیالکوٹ جانا ہے۔

(c) گم شدہ بیٹے کو دیکھ کر ماں کا دل باغ باغ ہو گیا۔

(d) وقت ضائع نہیں کرنا چاہیے۔

سوال نمبر 4: روز مرہ کے لحاظ سے درست جملہ ہے:

(a) وہ بعض دن سکول سے غیر حاضر رہتا ہے۔

(b) وہ ہر دن سکول سے غیر حاضر رہتا ہے۔

(c) وہ آئے دن سکول سے غیر حاضر رہتا ہے۔

(d) وہ اکثر روز سکول سے غیر حاضر رہتا ہے۔

سوال نمبر 5: "خوف و ہراس پھیلانا اچھی بات نہیں۔" اس جملے میں خوف و ہراس ہیں:

(a) مترادف

(b) متضاد

(c) متلازم

(d) معروف

سوال نمبر 6: متضاد الفاظ کی درمیانی فہرست کے حوالے سے درست ترتیب ہے:

(a) جمع، واحد، تشنیہ

(b) تشنیہ، واحد، جمع

(c) واحد، تشنیہ، جمع

(d) تشنیہ، جمع، واحد

سوال نمبر 7: لغت کے اعتبار سے الفاظ کی درست ترتیب ہے:

(b) سیاحت، ظہور، نقاط، ولایت

(a) ولایت، ظہور، سیاحت، نقاط

(d) نقاط، ظہور، ولایت، سیاحت

(c) ظہور، نقاط، سیاحت، ولایت

سوال نمبر 8: متضاد الفاظ کی درمیانی لفظ کے لحاظ سے درست ترتیب ہے:

(b) آپ یہ دوا صبح دوپہر شام (تین مرتبہ) لیجیے۔

(a) آپ یہ دوا صبح سویرے شام (تین مرتبہ) لیجیے۔

(d) آپ یہ دوا صبح سویرے دن (تین مرتبہ) لیجیے۔

(c) آپ یہ دوا صبح سویرے رات (تین مرتبہ) لیجیے۔

سوال نمبر 9: روزمرہ کے لحاظ سے درست جملہ ہے:

(b) وہ آئے دن جھوٹ بولتا ہے۔

(a) وہ آئے روز جھوٹ بولتا ہے۔

(d) وہ آئے وقت جھوٹ بولتا ہے۔

(c) وہ آئے یوم جھوٹ بولتا ہے۔

سوال نمبر 10: دادی اماں نے کہا: ارے! دوا کے لیے تم شہر کے ہر ڈاکٹر کے پاس چلے گئے۔ اپنے چچا کے پاس جاؤ وہ بھی ایک بہترین ڈاکٹر ہیں۔ سچ کہتے ہیں "گھر کی مرغی دال برابر۔" یہاں "گھر کی مرغی دال برابر" سے مراد ہے:

(b) بزرگ آدمی کا حکم نہیں چلتا۔

(a) اپنوں سے لا تعلق ہونا اچھی بات نہیں ہے۔

(d) رشتہ داروں کو آزمایا نہیں جاتا۔

(c) مفت دستیاب چیز کی قدر نہیں ہوتی۔

سوال نمبر 11: روزمرہ کے لحاظ سے درست جملہ ہے:

(c) یہ آپ کی عین کرم نوازی ہے۔
(d) وہ ہر دن سیر کو جاتا ہے۔

(a) وہ بے ناغہ کالج جاتا ہے۔
(b) یہ آپ کی عین کرم فرمائی ہے۔

سوال نمبر 12: "لوگوں نے چور پکڑ لیا۔" فعل مجہول کے مطابق یہ جملہ ہوگا:

(d) چور پکڑ لیا گیا۔

(c) انھوں نے چور پکڑا۔

(b) اسلم نے چور پکڑا۔

(a) ہم نے چور پکڑا۔

سوال نمبر 13: جو بازی میں سبقت نہ لے جاؤ تم

خبر دار ہرگز نہ گھبراؤ تم

"کھیل" کا ہم معنی لفظ اس شعر میں ہے۔

(d) خبردار

(c) بازی

(b) گھبراؤ

(a) سبقت

سوال نمبر 14: محاورے کے درست استعمال کا جملہ ہے:

(b) وہ کار کے حادثے سے بال بال بچا۔

(a) وہ کار کے حادثے میں کان کان بچا۔

(d) وہ کار کے حادثے میں کھال کھال بچا۔

(c) وہ کار کے حادثے میں ناک ناک بچا۔

سوال نمبر 15: "ملاح کشتی کو دریا کے پار لے جائے گا۔" اس جملے میں متلازم الفاظ ہیں:

(d) دریا، کشتی، جائے

(c) جائے، گا، کشتی

(b) ملاح، پار، لے

(a) ملاح، کشتی، دریا

سوال نمبر 16: محاورے کے درست استعمال والا جملہ ہے:

(b) اس نے اپنے والد کا خواب شرمندہ تعبیر کر دیا۔

(a) اسے اپنے غلط کاموں کی وجہ سے شرمندگی اٹھانی پڑی۔

(d) کام نہ کرنے سے مجھے سب کے سامنے شرمندہ ہونا پڑا۔

(c) اس خواب کی تعبیر بہت اچھی ہو سکتی ہے۔

سوال نمبر 17: محاورے کے درست استعمال والا جملہ ہے:

(b) درد کی شدت سے مریض کی ساری رات آنکھ نہ اٹھی۔

(a) درد کی شدت سے مریض کی ساری رات آنکھ نہ ہلی۔

(d) درد کی شدت سے مریض کی ساری رات آنکھ نہ بھری۔

(c) درد کی شدت سے مریض کی ساری رات آنکھ نہ لگی۔

سوال نمبر 18: روزمرہ کے لحاظ سے درست جملہ ہے:

(d) وہ بے ناغہ سکول جاتا ہے۔

(c) وہ بلا ناغہ سکول جاتا ہے۔

(b) میرے کوکل کراچی جانا ہے۔

(a) بے فضول باتیں نہ کرو۔

سوال نمبر 19: "اسلم چاول خریدتا ہے۔" یہ جملہ فعل مجہول کے مطابق ہوگا:

(d) کیا اسلم چاول کھائے گا؟

(c) اسلم چاول پکائے گا۔

(b) اسلم چاول کھاتا ہے۔

(a) چاول خریدے جاتے ہیں۔

سوال نمبر 20: باپ نے بیٹے کا خط پڑھ کر تسکین محسوس کی۔ "تسکین" کا لغوی معنی ہے:

- (a) تسلی (b) صدمہ (c) درد (d) خوشبو

سوال نمبر 21: مترادف الفاظ کے درست استعمال والا جملہ ہے:

- (a) دوسروں کی عزت و آبرو کا خیال رکھنا چاہیے۔
(b) دوسروں کی عزت و آرزو کا خیال رکھنا چاہیے۔
(c) دوسروں کی عزت و روبرو کا خیال رکھنا چاہیے۔
(d) دوسروں کی عزت و سرخرو کا خیال رکھنا چاہیے۔

سوال نمبر 22: "اسلم کتاب پڑھے گا" کا اسی زمانے میں مجہول کا جملہ ہو گا:

- (a) کتاب پڑھی جائے گی۔ (b) کتاب پڑھی جاتی ہے۔
(c) کتاب پڑھی جا رہی ہے۔ (d) کتاب پڑھی گئی تھی۔

سوال نمبر 23: متضاد الفاظ کے استعمال کا درست جملہ ہے:

- (a) زندگی میں مشکل اور دشوار گزار راستے آتے رہتے ہیں۔
(b) زندگی میں سہل اور آسان راستے آتے رہتے ہیں۔
(c) زندگی میں آسان اور مشکل راستے آتے رہتے ہیں۔
(d) زندگی میں مشکل اور کٹھن راستے آتے رہتے ہیں۔

سوال نمبر 24: محاورے کے درست استعمال کا جملہ ہے:

- (a) اچھا طالب علم محنت سے جی نہیں چراتا۔
(b) اچھا طالب علم محنت سے آنکھ نہیں چراتا۔
(c) اچھا طالب علم محنت سے دل نہیں چراتا۔
(d) اچھا طالب علم محنت سے کان نہیں چراتا۔

سوال نمبر 25: متضاد الفاظ کے استعمال کا درست جملہ ہے:

- (a) زندگی اور حیات اللہ تعالیٰ کے ہاتھ میں ہے۔
(b) زندگی اور موت اللہ تعالیٰ کے ہاتھ میں ہے۔
(c) زندگی اور نجات اللہ تعالیٰ کے ہاتھ میں ہے۔
(d) زندگی اور صحت اللہ تعالیٰ کے ہاتھ میں ہے۔

سوال نمبر 26: مترادف الفاظ کے استعمال والا جملہ ہے:

- (a) وہ ہمیشہ تلاش و جستجو میں رہتا ہے۔
(b) وہاں کئی بیلین اور پودے ہیں۔
(c) سبق آسان بھی ہے اور مشکل بھی۔
(d) آپ کی محبت اور خدمت یاد رہے گی۔

سوال نمبر 27: "اُس نے بہت سے مہمانوں کو مدعو کیا۔" اس جملے سے اسی زمانے کا درست فعل مجہول کا جملہ ہے:

- (a) بہت سے مہمان مدعو کیے گئے۔
(b) بہت سے مہمان مدعو کیے جاتے ہیں۔
(c) بہت سے مہمان مدعو کیے جائیں گے۔
(d) بہت سے مہمان مدعو کیے جا رہے ہیں۔

مندرجہ ذیل پیرا گراف پڑھ کر نیچے دیے گئے سوالات کے جوابات دیجیے۔

قدیم دور میں انسان پیدل سفر کرتا تھا۔ پھر جانوروں کی سواری کا استعمال ہونے لگا۔ اس دور کا سفر بہت سست اور مشکل ہوتا تھا لیکن اس کا روشن پہلو یہ تھا کہ حادثات پیش نہیں آتے تھے۔ نہ ہی قیمتی جانوں کا ضیاع ہوتا تھا۔ دورِ جدید میں انسان آمدورفت کے ذرائع میں بہت ترقی کر چکا ہے۔ سفر بہت آسان اور تیز رفتار ہو گیا ہے۔ لیکن تیز رفتاری کی وجہ سے سڑکوں کے حادثات میں بے پناہ اضافہ ہوا ہے۔ اب صورت حال یہ ہے کہ آئے دن ٹریفک کے حادثات بڑھتے جا رہے ہیں۔ اور قیمتی جانیں ضائع ہو جاتی ہیں۔ ان حادثات کی مختلف وجوہات ہیں۔ سب سے بڑا سبب تیز رفتاری اور لا پرواہی ہے۔ ڈرائیور ٹریفک قوانین کی پابندی نہیں کرتے۔ غلط اور ٹیکنگ کر کے دوسروں سے آگے نکلنے کی کوشش بھی حادثات کی وجہ ہے اور پھر کچھ ڈرائیور نشے کے عادی بھی ہوتے ہیں۔ حادثات کا ایک اور سبب تنگ سڑکیں بھی ہیں۔ اکثر ڈرائیور گنجائش سے زیادہ سواریاں بٹھا لیتے ہیں جو کہ انسانی جانوں کے لیے بہت خطرناک ہے۔

سوال نمبر 28: پرانے زمانے کا روشن پہلو تھا:

- (a) سواریوں کی کمی (b) حادثات کا نہ ہونا (c) جانوں کا ضیاع (d) سلجھے ہوئے ڈرائیور

سوال نمبر 29: پیرا گراف کے مطابق حادثات میں قیمتی جانوں کے ضیاع کا اہم سبب ہے:

- (a) تیز رفتاری (b) جدید گاڑیاں (c) موٹر سائیکلوں کی کثرت (d) پرانی گاڑیاں

سوال نمبر 30: لفظ "اور ٹیکنگ" کا معنی ہے:

- (a) پیچھے جانا (b) واپس آنا (c) آگے نکلنا (d) رک جانا

سوال نمبر 31: لوگوں سے آگے نکلنے کی کوشش وجہ بنتی ہے:

- (a) آسان سفر کی (b) کامیاب سفر کی (c) حادثہ کی (d) قانون کے احترام کی

سوال نمبر 32: عبارت کا موزوں عنوان ہے:

- (a) حادثات کی روک تھام (b) حادثات کے اسباب (c) عبرت ناک حادثہ (d) آنکھوں دیکھا حادثہ

SCHOOL BASED ASSESSMENT 2023

MODEL PAPER

GRADE 7

URDU PART – B (Subjective Type)

[Part A: 48 Marks Part B: 52 Marks Total: 100 Marks]



School : _____
Tehsil : _____ District: _____

Student Name: _____ Section: _____
Roll Number: _____ Date: _____

طلبا کے لیے عمومی ہدایات:

- 1۔ جواب لکھنے کے لیے علیحدہ سے جوابی کاپی کا استعمال کریں اور اس کے اوپر بھی اپنے بارے میں معلومات دیں۔
- 2۔ غور سے پڑھیں اور تمام سوالات حل کریں۔
- 3۔ ایک سوال ایک یا ایک سے زیادہ حصوں پر مشتمل ہو سکتا ہے۔
- 4۔ جواب لکھنے کے لیے کالی/ نیلی روشنائی کا استعمال کریں۔ کچی پنسل کے استعمال کی اجازت نہیں ہے۔

کل نمبر: 52	حصہ ب (انشائیہ سوالات)	وقت: 1 گھنٹہ 45 منٹ
-------------	------------------------	---------------------

سوال نمبر 1: ایک کہانی لکھیں جس سے یہ ظاہر ہو کہ "اتفاق و اتحاد کے ساتھ ہر خطرے سے بچا جاسکتا ہے۔" (کل نمبر 10)

سوال نمبر 2: آپ کے والد صاحب طویل بیماری کے بعد صحت یاب ہوئے ہیں جن کی دعائیہ تقریب میں شرکت کے لیے اپنے خالوجان کو دعوت نامہ تحریر کریں۔ (کل نمبر 10)

سوال نمبر 3: "علم کے فائدے" کے عنوان پر مضمون لکھیں جو دو سوا الفاظ پر مشتمل ہوں۔ (کل نمبر 10)

سوال نمبر 4: درج ذیل اشعار کی تشریح بیان کریں۔ (کل نمبر 10)

کیا اُمیوں نے جہاں میں اجالا ہوا جس سے اسلام کا بول بالا

بتوں کو عرب اور عجم سے نکالا ہر اک ڈوبتی ناؤ کو جاسنبالا

سوال نمبر 5: دی گئی عبارت کو غور سے پڑھیں اور سوالات کے جوابات لکھیں۔ (کل نمبر 12)

ہر انسان کے جسم میں تین بوتل اضافی خون کا ذخیرہ موجود ہوتا ہے۔ ایک تندرست شخص ہر تیسرے مہینے کے بعد خون کی ایک بوتل عطیہ کے طور پر دے سکتا ہے۔ اس سے اس کی صحت پر مثبت اثرات مرتب ہوتے ہیں۔ خون دینے والے شخص کا کو لیسٹرول بھی قابو میں رہتا ہے۔ تین ماہ کے اندر اندر نیا خون اس ذخیرے میں شامل ہو جاتا ہے۔ خون دینے والے افراد میں قوت مدافعت زیادہ ہوتی ہے۔ وہ جلدی بیماریوں کا شکار نہیں ہوتا۔ خون دینے والے افراد موٹاپے سے بھی محفوظ رہتے ہیں۔ جسم سے خون نکلنے سے پہلے مکمل جانچ پڑتال کرنا ضروری ہوتا ہے۔ خون دینے والے شخص کا صحت مند ہونا بنیادی شرط ہے۔ کئی خطرناک امراض خون کی منتقلی کی وجہ سے خون لینے والے شخص تک پہنچ سکتے ہیں۔

سوال (i): عبارت کو مناسب عنوان دیں۔ (2)

سوال (ii): اضافی خون سے کیا مراد ہے؟ (3)

سوال (iii): خون دینے والے شخص کو خون دینے سے کیا فائدہ ہوتا ہے؟ (3)

سوال (iv): ایک صحت مند شخص کتنے عرصے کے بعد خون بطور عطیہ دے سکتا ہے؟ (4)